

Adı:	2015-2016 EĞİTİM ÖĞRETİM YILI	7. SINIF 12 MAYIS 2016
Soyadı:	KAYMAKAM ÖZGÜR AZER KURAK ORTAOKULU	
Sınıf: 7 - No:	SOSYAL BİLGİLER 7 II. DÖNEM II. ORTAK SINAV	

1-) Aşağıda bilgisi verilen yerlerden hangisi Türklerin Anadolu'daki varlıklarını kanıtlayan eserlerden biri değildir?

- A) Artuklular döneminden kalan Diyarbakır'daki Malabadi Köprüsü dünyanın en büyük kemerli taş köprüsüdür.
- B) Mengücekliler zamanından kalan Sivas'taki Divriği Ulu Camisi ve Darüşşifası UNESCO'nun korunması gereken dünya mirası listesine alınmıştır.
- C) Erzincan'da Saltuklu hükümdarlarından kalma Mama Hatun Külliyesi içinde han , hamam, mescit ve türbe bulunmaktadır.
- D) Orhun yazıtları Türklerin bilinen ilk Türk alfabesi olan Orhun Alfabesi ile Göktürkler tarafından yazılmış Orhun Nehri kıyısında bir anıttır.

2-) I . İnsan ve hayvan gücüne dayalı üretim yerini makine gücüyle üretime bırakmıştır.
II. Doğal kaynakların tüketimi azalmıştır.
III. Fabrikaların çoğalmasıyla işçi sınıfı ortaya çıkmıştır.
IV. Tarımsal üretim yerini hayvancılığa bırakmıştır.

Yukarıda verilenlerden hangileri Sanayi inkılabının sonuçlarındandır?

- A) I ve II
- B) II ve III
- C) III ve IV
- D) I ve III

3-) I. İstanbul'da yaşayan bir ailenin, tatil için iki aylığına İzmir'e gelmesi
II. Mardinli bir ailenin pamuk toplamak için Adana'ya gidip, işi bitince dönmesi
III. Ankara'da görev yapan bir polis memurunun tayini gereği Diyarbakır'a gitmesi
IV. Trabzonlu bir köylünün yaz aylarında hayvanlarını otlatmak için yaylaya çıkması

Yukarıda verilenlerden hangisi mevsimlik göçlere örnek gösterilemez?

- A) IV
- B) III
- C) II
- D) I

4-) Haçlı Seferleri sonucunda ortaya çıkan;
I. Katolik -Ortodoks çatışmasının artması
II. Kilisiye duyulan güvenin azalması
III. Akdeniz Limanlarının önem kazanması
durumlarından hangilerinin dini içerikli olduğu söylenemez?

- A) Yalnız I
- B) Yalnız II
- C) Yalnız III
- D) II ve III

5-)



Yukarıdaki şemada "?" ile gösterilen yere aşağıdakilerden hangisi getirilmelidir?

- A) Tarımsal üretime katkı sağlanmıştır.
- B) Kervansaraylar sadece Anadolu içindedir.
- C) Ticaretin gelişmesi sağlanmıştır.
- D) Tek ekonomik faaliyet ticaret olmuştur.

6-) Anadolu'da Türk Tarihinin başlamasını sağlayan gelişme aşağıdakilerden hangisidir?

- A) Malazgirt Savaşı'nın kazanılması
- B) Haçlı Seferlerinin sona ermesi
- C) Anadolu'da Türk Beyliklerinin kurulması
- D) Köseadağ Savaşı'nı Moğolların kazanması

7-)

Ben Osmanlı Sultanı Kanuni, hükümdarlığım döneminde güçlü donanmam Rodos Adasını aldı, Haçlı Donanması ile yapılan Preveze Deniz Savaşı'nı kazandı. Trablusgarp'ı fethetti.



Kanuni Sultan Süleyman dönemindeki bu gelişmelerin Osmanlı Devleti'nde aşağıdakilerden hangisine yol açtığı söylenebilir?

- A) Akdeniz hakimiyetinin sağlanmasına
- B) Doğu sınırlarının genişlemesine
- C) İpek yolu hakimiyetinin sağlanmasına
- D) Sömürgecilik faaliyetlerinin başlamasına

8-) Atatürk milli mücadele yıllarında çeşitli gazetelerin yayınlanmasına ve Anadolu Ajansı'nın kurulmasına öncülük etmiştir.

Bu durum öncelikle aşağıdakilerden hangisinin göstergesidir?

- A) Basın yayın kuruluşlarına güven duyulmadığının
- B) Halkın doğru bilgilenebilmesine önem verildiğinin
- C) İşgalci devletlerin iletişimde daha ileri olduğunun,
- D) Halkın büyük bir bölümünün okur-yazar olduğunun

9-)



"Söz söylemek için önce duymak, dinlemek gerek. Sen de söze dinlemek yolundan gir."

Mevlana bu sözünde iletişime ilgili olarak aşağıdakilerden hangisine vurgu yapmaktadır?

- A) İletişim insana özgü olduğuna
- B) Konuşmanın dinlemeden daha önemli olduğuna
- C) Gereksiz konuşmaların iletişimi olumsuz etkilediğine
- D) Dinlemenin iletişimde önemli bir yeri olduğuna

10-) Nüfus yoğunluğu, bir yerdeki toplam nüfusun o yerin kapladığı alana bölünmesiyle bulunur.

Merkezler	Nüfusu (milyon kişi)	Yüzölçümü (km ²)
I	40	200.000
II	30	300.000
III	20	100.000
IV	10	400.000

Buna göre, yukarıda verilen merkezlerden hangisinde nüfus yoğunluğu daha azdır?

- A) I
- B) II
- C) III
- D) IV

11-) Lale Devri'nde yapılan yenilikler şunlardır:

- Doğu klasikleri Türkçe'ye çevrildi
- İlk defa çiçek aşısı yapıldı
- İstanbul'da çini ve kumaş imalathaneleri açıldı

Bu yeniliklere bakarak, Lale Devri'nde aşağıdaki alanların hangisine yönelik yenilik yapıldığı söylenemez?

- A) Sağlık
- B) Kültürel
- C) Askeri
- D) Ekonomik

12-)



Nişancı

Fermanlara padişahın tuğrasını çekerim. Ayrıca tapu işleriyle ilgilenirim.

Devletin mali işlerinden sorumluyum.



Defterdar



Kazasker

Büyük davalara bakar, kadı ve müderrislerin atama ve görevden alma işleriyle uğraşırım.

Divan'da alınan kararların İslam dinine uygun olup olmadığına karar veririm.



Şeyhülislam

Yukarıdaki Divan-i Hümayun üyelerinden hangisinin görevleri günümüzde adalet Bakanı'nın çalışma alanıyla benzerlik gösterir?

- A) Nişancı
- B) Kazasker
- C) Defterdar
- D) Şeyhülislam

13-) Önemli buluşlara öncülük etmiş medeniyetlerin Mezopotamya, Mısır, Çin ve Hindistan'da kurulmasında bu alanların hangi özelliklerinin etkili olduğu savunulamaz?

- A) Kuzey yarım kürede yer almaları
- B) Doğal kaynaklar bakımından zengin olmaları
- C) Zengin su kaynaklarına sahip olmaları
- D) Coğrafi koşullarının yaşamaya elverişli olması

14-) İslam Dünyası'nın Coğrafi Keşifler sonucunda ekonomik olarak zayıflamasının nedeni aşağıdakilerden hangisidir?

- A) Avrupa'da kiliseye duyulan güvenin azalması
- B) Önemli ticaret yollarının yön değiştirmesi
- C) Rönesans ve Reform hareketlerinin başlaması
- D) Soyluların sosyal alandaki etkinliklerinin azalması

15-)

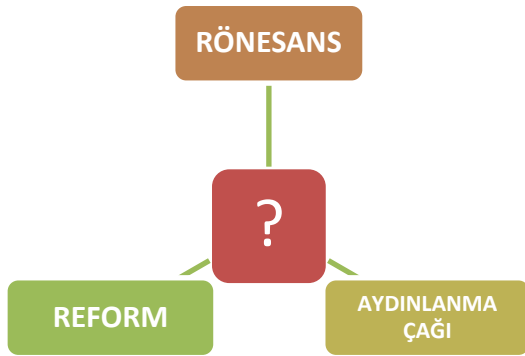


Yukarıdaki dünya haritası üzerinde gösterilen, İngiltere'den yola çıkan geminin, Hindistan'a ulaşış baharat yüklemesi gerekmektedir.

İngiltere'den Hindistan'a ulaşacak olan bu geminin en kısa yolu izlemesi için sırasıyla hangi boğaz, kanal ve denizleri geçmesi gerekmektedir?

- A) Hint Okyanusu, Ümit Burnu, Atlas Okyanusu
- B) Atlas Okyanusu, Panama Kanalı, Akdeniz, Cebelitarık Boğazı, Kızıldeniz
- C) Atlas Okyanusu, Cebelitarık Boğazı, Akdeniz, Süveyş Kanalı, Kızıldeniz, Hint Okyanusu
- D) Hint Okyanusu, Kızıldeniz, Süveyş Kanalı, Akdeniz, Cebelitarık Boğazı, Atlas okyanusu

16-)



Verilen bu üç olayın ortak özelliği düşünüldüğünde, diyagramın başlığı aşağıdakilerden hangisi olmalıdır?

- A) Ekonomik olarak Avrupa'yı zengin eden olaylar
- B) Katolik kilisesinin kendisini yenilemesinin nedeni
- C) Özgür düşünce ortamını sağlayan dönemler
- D) Hristiyanlığın yayılmasını sağlayan olaylar

17-) Osmanlı Devleti'nde tımar sahipleri;

- Cebelü denilen atlı asker yetiştirmiştir.
- Toprağın sürekli ekimini sağlamıştır.
- Uzak toprakların vergilerini toplamıştır.

Buna göre tımar sistemi;

- I. Kültürel
- II. Askeri
- III. Ekonomik
- IV. Dini

gibi alanlardan hangileriyle ilgili devlete fayda sağladığı söylenebilir?

- A) I ve III
- B) II ve III
- C) II ve IV
- D) I-II ve III

18-)

BİLGİ	D	Y
Osmanlı Devleti, Sanayi İnkılabından ekonomik olarak olumlu etkilendi.		
Osmanlı Devleti sanayi İnkılabı ile sömürgeci devletlerin pazarı oldu.		
Sanayi İnkılabından sonra Osmanlı Devleti, sömürgecilik yarışına ilk giren ülkelerden oldu.		

Yukarıdaki tabloda "Osmanlı Devleti ve Sanayi İnkılabı" ile ilgili verilen bilgilerin "Doğru" ve "Yanlış" olarak sıralaması aşağıdakilerden hangisidir?

A)

D	Y
	*
*	
	*

B)

D	Y
*	
*	
	*

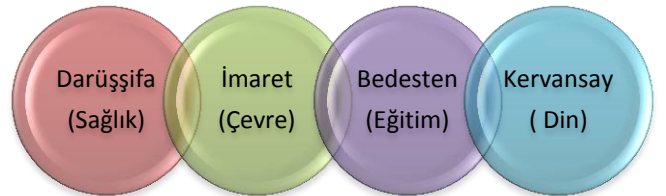
C)

D	Y
	*
	*
	*

D)

D	Y
*	
*	
*	

19-)



Hangi yapının etkinlik alanı doğru verilmiştir?

- A) Darüşşifa
- B) İmaret
- C) Bedesten
- D) Kervansaray

20-) Aşağıda Türk Devleti'nin bazı özellikleri verilmiştir.

Türk Milleti kendini yönetecek kişileri seçim yoluyla kendisi seçer. Bu amaçla dört yılda bir genel seçimler yapılmaktadır.

Din ve devlet işleri birbirinden ayrıdır. Devlet insanlara inançları ile ilgili bir baskı ve telkinde bulunmaz. Din ve vicdan özgürlüğü vardır.

Buna göre, Türk Devleti'nin özelliklerinin ilgili olduğu kavramlar aşağıdaki seçeneklerden hangisinde doğru olarak verilmiştir?

	▲	■
A)	Sosyal	Laik
B)	Hukuk	Demokratik
C)	Hukuk	Sosyal
D)	Demokratik	Laik

21-)



Yukarıdaki bilgilere göre "?" olan yere aşağıdakilerden hangisi gelmelidir?

- A) Danıştay
- B) Başbakan
- C) Adalet Bakanı
- D) Türkiye Büyük Millet Meclisi

22-)

Eski Türk devletlerinde görülen ve tanrının bir kişiye devleti yönetme yetkisini vermesine denir.

Yukarıdaki boşluğa aşağıdaki kavramlardan hangisi gelmelidir?

- A) Toy
- B) Kut
- C) Veraset
- D) Kurultay

23-)

1	MEDRESE
2	ENDERUN
3	LONCA

a	Mesleki eğitimin verildiği kurumdur.
b	Devlet adamı yetiştirmek için açılmıştır.
c	Ücretsiz olup, orta ve yükseköğretim veren okuldur.

Yukarıdaki tabloda Osmanlı Devleti'ndeki bazı eğitim kurumları ve bunların amaçları verilmiştir. Verilen kurumlar ve amaçları eşleştirildiğinde hangi seçenek doğru olur?

- A) 1-c,2-a,3-b
- B) 1-b,2-a,3-c
- C) 1-c,2-b,3-a
- D) 1-a,2-c,3-b

24-)

I. Sanat ve bilim alanında ilerlemeler meydana geldi.

II. Skolastik düşünce yerini pozitif düşünceye bıraktı.

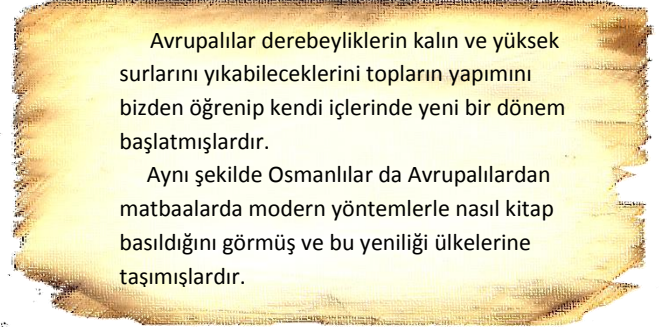
III. Yeni mezhepler ortaya çıktı.

IV. İşçi sorunlarını çözmek üzere sendikalar kuruldu.

Yukarıda verilen öncüllerden hangisi ya da hangileri Rönesans'ın sonuçları arasına yer alır?

- A) I ve II
- B) I- II ve III
- C) II ve III
- D) I-III-IV

25-)



Bu metinden hareketle aşağıdakilerden hangisine ulaşılabilir?

- A) Avrupalılar Osmanlılara göre çok daha ileri bir medeniyet kurmuştur.
- B) Osmanlıların başka milletlerden etkilendiklerini söylemek doğru değildir.
- C) Avrupalılar İslam kültürünün katkıları ile gelişmiştir
- D) Osmanlılar Avrupalıları hem etkilemiş hem de onlardan etkilenmiştir.

SOSYAL BİLGİLER 7.SINIF
(12 MAYIS 2016)

BU DOSYADAKİ SORULARIN DOĞRU YANITLARI AŞAĞIDADIR SORU SAYISI: 25

Doğru Yanıtlar Tablosu		Sorunun İçeriği ve Özü
1-	D	ANADOLU TÜRK BEYLİKLERİ ESERLERİ
2-	D	SANAYİ İNKILABI
3-	B	GÖÇ
4-	C	HAÇLI SEFERLERİ
5-	C	KERVANSARAYLAR VE TİCARET
6-	A	MALAZGİRT MEYDAM MUHAREBESİ
7-	A	KANUNİ SULTAN DÖNEMİ GELİŞMELERİ
8-	B	ATATÜRK VE MİLLİ MÜCADELE
9-	D	İLETİŞİM
10-	D	NÜFUS
11-	C	LALE DEVRİ
12-	B	DİVAN ÜYELERİ
13-	A	ZAMAN İÇİNDE BİLİM
14-	B	COĞRAFİ KEŞİFLER
15-	C	DEVLETLER NASIL GELİŞİR.(ÖNEMLİ YOLAR)
16-	C	RÖNESAN ,REFORM , AYDINLANMA ÇAĞI
17-	B	TIMAR SİSTEMİ
18-	A	OSMANLI VE SANAYİ İNKILABI
19-	A	OSMANLI YAPILARI
20-	D	TÜRKİYE CUMHURİYETİNİN NİTELİKLERİ
21-	D	DEVLETİN TEMEL GÖREVLERİ
22-	B	KUT
23-	C	OSMANLIDA EĞİTİM
24-	A	RÖNESANSIN SONUÇLARI
25-	D	ETKİLEDİK ETKİLENDİK