

5. SINIF  
SOSYAL BİLGİLER

2025 ARA TATİL

DIET ÇİKOLATASI  
DENEMELERİ

(Destekleme İzleme Eksikleri Tespit Etme)

ÖĞRENME ÇIKTILARINA UYGUN  
HER GÜNE BİR DENEME  
10 DENEME  
(100 SORU)

*İlk Kez Yayınlanan Sorularla*

*Metin Özdamarlar*

*ın bu güzel ülkenin birbirinden değerli öğrencilerine hediyesidir.*

20 OCAK 2025  
PAZARTESİ

DIET DENEMESİ  
01

D:  
Y:

1. Toplum içinde ortak hedef ve değerleri olan insanlar grupları meydana getirir. Aile, akrabalar ve okul toplumdaki gruplara birer örnektir. Sosyal yaşam grupları arasındaki uyum ve grupların birbirine desteği ile varlığını devam ettirebilir. Ayrıca bu gruplarda yer alan üyeler tecrübe, beceri ve farklı bakış açıları ile gruba değer katarken grubun diğer üyelerinin gelişimine de katkıda bulunur.

**Parçada grupların hangi özelliğinden bahsedilmiştir?**

- A) Kaç kişiden oluştuğundan
- B) Planlı olarak bir araya geldiğinden
- C) Ortak amaç için çalıştığından
- D) Toplumun varlığı için öneminden

2. Farklı kültürlerle saygı duymak birlikte yaşama kültürü için önemlidir. Bunun için herkesin benimsemesi gereken tutum ve davranışlar vardır.

**Buna göre, farklı kültürlerle iletişim kurarken aşağıdakilerden hangisi yanlış bir tutum ve davranış değildir?**

- A) Ayrımcılık yapma
- B) Ötekileştirme
- C) Empati kurma
- D) Dışlama

3. Ankara'nın farklı yıllarına ait görseller şöyledir:



**Görseller değerlendirildiğinde, beşerî çevrede hangi değişimin görüldüğü söylenemez?**

- A) Bina sayısının çoğaldığı
- B) Araç sayısının arttığı
- C) Trafik yoğunluğunun oluştuğu
- D) Nüfusun azaldığı

4. Mersin’de yaşayan 5. sınıf öğrencisi Ebrar Nur ilinin göreceli konumunu belirtirken aşağıdaki ifadelerden hangisini kullanmaz?

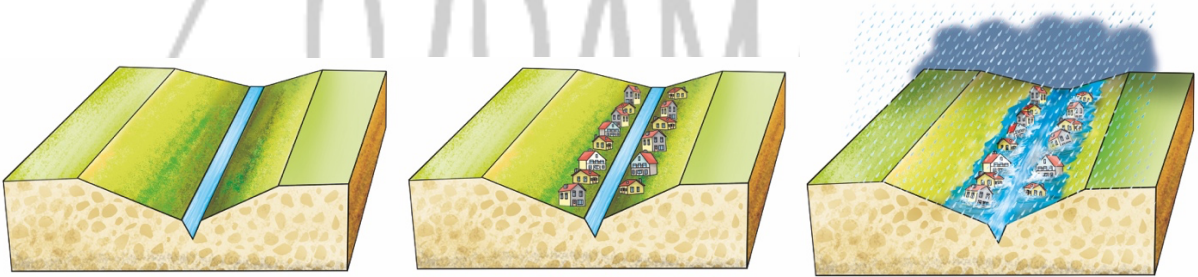
- A) Mersin ili Kuzey Yarımkürede yer almaktadır.
- B) Mersin, kara, demir ve hava yolları açısından gelişmiştir. Mersin’den Kıbrıs’a deniz seferleri yapılmaktadır. Çukurova Uluslararası Havalimanı şehirdedir.
- C) Mersin’in doğusunda Adana, batısında Antalya, kuzeyinde Niğde, Konya ve Karaman illeri vardır.
- D) Mersin’de Kleopatra Kapısı, Danyal Peygamber Makamı, Tarihî Tarsus Evleri ve Kız Kalesi gibi alanlar bulunmaktadır.

5. Ülkelerin egemenlik sembollerinden biri de bayraklardır. Bayrakların üzerindeki renkler, simgeler ve şekiller o ülkenin tarihini, değerlerini ve önemli özelliklerini yansıtır.

Aşağıda verilen bayraklardan hangisi İran’a aittir?



6. Bir afetin oluşumunu gösteren çizimler şu şekildedir:



Verilen görsellerdeki afete yol açan olumsuz insan faaliyeti aşağıdakilerden hangisidir?

- A) Bitki örtüsünü tahrip etmek.
- B) Fay hatları üzerine bina inşa etmek.
- C) Dağ yamaçlarına yerleşmek.
- D) Dere yataklarına ev yapmak.

7. Ortak kültürel miras öğelerini korumak, yaşatmak ve gelecek nesillere aktarmak sadece devletin, valiliklerin, yerel yönetimlerin değil tüm insanların görevidir.

Bu durum hangi değerın bir gereğidir?

- A) İyilik
- B) Paylaşım
- C) Adalet
- D) Sorumluluk

## 8. Çatalhöyük ile ilgili bazı olgular şöyledir:

- I. Bitki liflerinden yaptıkları veya avladıkları hayvanların derisinden yaptıkları kıyafetler giymişlerdir.
- II. Yemeklerini evlerinin içindeki ocaklarda pişirmişlerdir. Tuzluk, kap ve kaşık imal edip yemek yerken kullanmışlardır.
- III. Evlerini vahşi hayvan saldırılarından korunmak için birbirine bitişik ve girişi üstten olacak şekilde yapmışlardır.

Verilenlerin ilgili olduğu temel insan ihtiyaçları hangi seçenekte sırasıyla doğru verilmiştir?

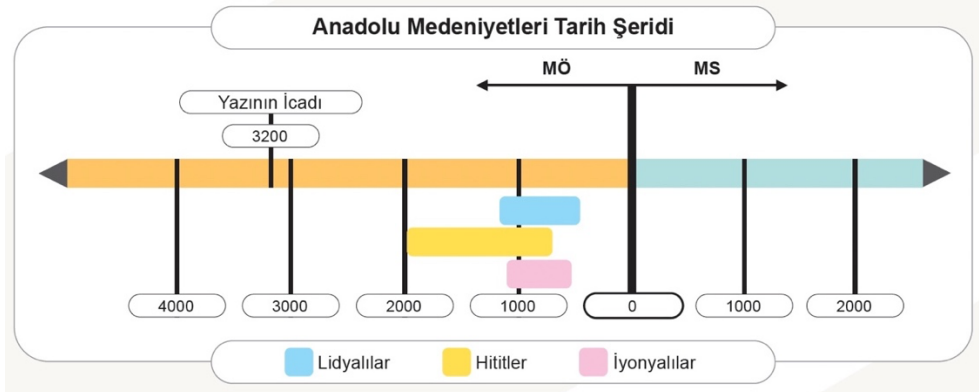
	I	II	III
A)	Beslenme	Savunma	Giyinme
B)	Beslenme	Giyinme	Savunma
C)	Giyinme	Beslenme	Savunma
D)	Giyinme	Savunma	Beslenme

9. Dünyanın en eski kütüphanelerinden biri, MÖ 7. yüzyılda Asurların başkenti Ninova'da kurulan Asurbanipal Kütüphanesi'dir. Kral Asurbanipal, binlerce eseri kurduğu bu kütüphanede toplamıştır.

Bilgiye göre Asurbapinal Kütüphanesinin dünya ortak mirasına hangi alanda katkı sağladığı söylenebilir?

- A) Bilim                      B) Sanat                      C) Ekonomi                      D) Hukuk

10.



Tarih şeridi incelendiğinde aşağıdaki yargılardan hangisine ulaşamaz?

- A) İyonyalılar ve Hititler aynı dönemde yaşamıştır.
- B) İlk olarak Hititler kurulmuştur.
- C) En kısa süren uygarlık Urartulardır.
- D) Uygarlıklar tarih öncesi dönemde kurulmuştur.

**21 OCAK 2025  
SALI**

**DIET DENEMESİ  
02**

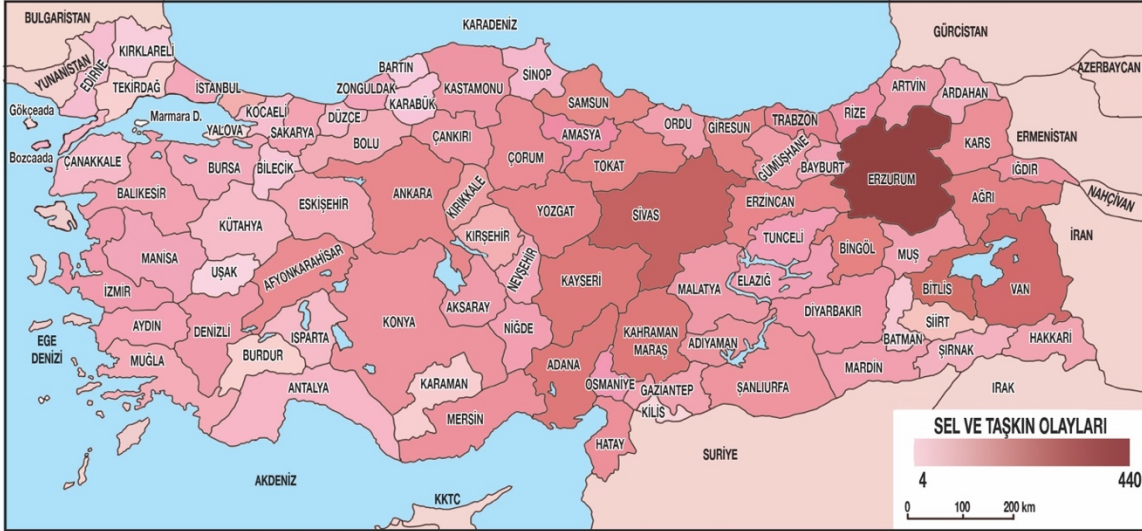
**D:  
Y:**

1. Dâhil olduğumuz gruplarda birtakım rollere sahip oluruz. Örneğin aile içinde çocuk, okulda öğrenci, sınıfta sınıf başkanı ve hentbol takımında kaleci rolünde olabiliriz. Birden çok grupta yer aldığımız için aynı anda birden fazla role de sahip oluruz. Dâhil olduğumuz gruplara ve üstlendiğimiz rollere göre çeşitli haklar elde eder ve sorumluluklar üstleniriz.

**Verilen bilgiye göre aşağıdaki yargılardan hangisine ulaşamaz?**

- A) Bir role sahip olmak için bir gruba dahil olmak gereklidir.
- B) Bir kişi aynı anda birden fazla role sahip olabilir.
- C) Rollerimizin tamamı sonradan kazanılır.
- D) Roller bize haklar kazandırdığı gibi bazı sorumluluklar da yükler.

2. Türkiye’de sel ve taşkın olaylarını gösteren harita şöyledir:



**Haritaya göre, aşağıdaki yargılardan hangisine ulaşılabilir?**

- A) Sel olaylarına en fazla Erzurum’da rastlanmıştır.
- B) İllerin yüzölçümü ile sel olayları arasında ilişki vardır.
- C) Ülkemizin iç kesimlerinde sel olaylarına hiç rastlanmamıştır.
- D) Dere yataklarına ev yapmak selin en önemli nedenidir.

3. Yerleşik hayata geçen ilk insanlar su ve gıda ihtiyaçlarını karşılayabilmek için yerleşim yerlerini akarsu, göl kenarlarına ve verimli tarım arazilerine kurmuşlardır.

**Bilgiye göre , yerleşik yaşama geçen ilk insanlar için aşağıdaki yargılardan hangisine ulaşamaz?**

- A) Temel ihtiyaçlarını karşılayabileceklere yerlere yerleşmişlerdir.
- B) Avcı ve toplayıcılıktan tarıma geçtikten sonra da vazgeçmemişlerdir.
- C) Tarım faaliyetleri yerleşik yaşama geçmelerinde etkili olmuştur.
- D) Başka uygarlıklarla etkileşime girmişlerdir.

4. Erciyes yanbaşımda zirveye uzanır

Mantım parmak ısırtır

Arazim oldukça düzdür

Adana, Niğde, Nevşehir, Yozgat, Sivas komşularımdır

**Göreceli konumu hakkında bilgi verilen ilimiz aşağıdakilerden hangisidir?**

A) Konya

B) Mersin

C) Ankara

D) Kayseri

5. Adıyaman ili Kahta ilçesi sınırları içinde bulunan, yüksekliği 10 m'yi bulan büyüleyici heykelleri, metrelerce uzunluktaki kitabeleriyle Kommagene Krallığı'nın kutsal alanı olarak nitelendirilen **Nemrut Dağı**'nda görkemli bir anıt mezar ve mezar odasının üzerinde kırma taşlardan oluşan bir tümülüs vardır. Eşi benzerine rastlanmayan devasa heykellerin yapımında son derece gelişmiş bir teknoloji kullanılmıştır. Kullanılan taş bloklardan bazılarının ağırlığı 9 tona ulaşmaktadır.

**Verilen bilgiye göre, Nemrut Dağı'nın dünya miras listesine girmesinde aşağıdaki kriterlerden hangisinin etkili olduğu söylenemez?**

A) İnsanlık tarihinde önemli bir aşamayı veya aşamaları gösteren bir öge olması.

B) Yok olmuş bir kültürel geleneğe veya bir medeniyete yönelik tanıklık üstlenmesi.

C) Mimarlık, anıtsal sanatlar vb. alanda önemli bir değeri yansıtması.

D) Her yıl yerli ve yabancı çok sayıda turist tarafından ziyaret edilmesi

6. Dünya genelinde farklı kültürlere ait birçok kültürel miras ögesi belirleyerek bu ögeleri insanlığın ortak mirası görmekte ve bunların korunması için çalışmalar yürütmektedir. Korunması gereken kültürel miras ögelerini hazırladığı ve belirli aralıklarla güncellediği Dünya Mirası Listesi'nde yayımlamaktadır. Türkiye, bu kuruma 1946'da katılmıştır.

**Bilgi verilen kurum aşağıdakilerden hangisidir?**

A) UNICEF

B) NATO

C) UNESCO

D) AB

7. Dünya Miras Listesi'ne giren alanlar özel bir amblem taşımaktadır. Buna göre amblemin içindeki kare kültürel miras alanlarını, etrafındaki daire ise doğal miras alanlarını temsil eder.

**Bilgi verilen amblem aşağıdakilerden hangisidir?**

A)



B)



C)



D)



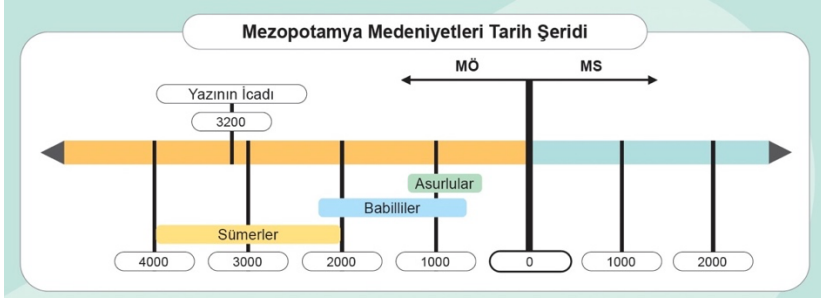
8. Ülkemizi ve komşularını gösteren harita şöyledir:



Buna göre aşağıdaki yargılardan hangisine ulaşılmaz?

- A) Yunanistan, batıda sınır komşumuzdur.
- B) Gürcistan hem karadan hem denizden komşumuzdur.
- C) Kuzey batıda sınır komşumuz Bulgaristan'dır.
- D) İran, güneyde sınır komşumuzdur.

9.



Tarih şeridi incelendiğinde, Mezopotamya Medeniyetleri için aşağıdaki yargılardan hangisine ulaşılmaz?

- A) İlk kurulan uygarlık Sümerler'dir.
- B) Babil ve Asurlar aynı dönemde yaşamıştır.
- C) Milattan sonra kurulmuşlardır.
- D) En kısa süren uygarlık Asurlar'dır.

10. Hititler, diğer medeniyetlerle olan ilişkilerini ve imzaladıkları belgeleri kayıt altına almıştır. Kadeş Antlaşması da bu belgelerden biridir. Mısırlılar ile Hititler arasında yapılan bu antlaşmanın bir nüshası Boğazköy kazılarında bulunmuş olup günümüzde İstanbul Arkeoloji Müzesinde sergilenmektedir. Kadeş Antlaşması, tarihteki ilk uluslararası barış antlaşması olarak kabul edilmektedir. Modern diplomasinin temeli olan antlaşmanın bir nüshası da günümüzde New York'taki Birleşmiş Milletler Binası'nda sergilenmektedir.

Kadeş Antlaşması aşağıdakilerden hangisinin modern anlamda temeli sayılmaktadır?

- A) Yazının
- B) Bilimin
- C) Diplomasinin
- D) Sanatın

22 OCAK 2025  
ÇARŞAMBA

DIET DENEMESİ  
03


D:  
Y:

1. Rollerimizden bazıları doğuştan kazanılırken bazı rollerimiz ise sonradan kazanılır.

**Doğuştan kazanılan rollere aşağıdakilerde hangisi örnek verilemez?**

- A) Öğrenci                      B) Yeğen                      C) Torun                      D) Evlat

2.Çatalhöyük'teki bazı faaliyetlere ait görseller şöyledir:



**Bu görsellerden hangi faaliyet hakkında fikir sahibi olunabilir?**

- A) Barınma                      B) Beslenme                      C) Yerleşme                      D) Ticaret

3. Hacılar'ın mimarisi kerpiçten yapılmış, küçük ve dörtgen odalardan oluşur. Kapı geçitlerinin olmayışı, evlere girişlerin damdan yapıldığını düşündürmektedir. Tek katlı evlerde oval ocaklar ve tahıl depolama yerleri bulunmaktadır. Zamanla evler büyük, dörtgen planlı, taş temel üstüne kerpiçten yapılmış, birbirine yakın ve bazen de bitişik olarak yerleştirilmiştir. Önceleri kapı ve pencerelerin bulunmadığı evlere zaman içinde kapı girişleri ve pencereler eklenmiştir. MÖ 3000 yıllarında bölgenin etrafı savunma duvarlarıyla çevrilmiştir.

(J. Mellart (1970), Hacılar Kazısı.)

**Verilen metin, Hacılar'da zaman içerisinde hangi anlayışın değişmesine örnektir?**

- A) Isınma                      B) Barınma                      C) Beslenme                      D) Aydınlanma

**4.Aşağıdakilerden hangisi Anadolu'daki tarih öncesi yerleşim yerlerinden biri değildir?**

- A) Göbeklitepe                      B) Çatalhöyük                      C) Çayönü                      D) Efes



5. Doğal çevre zaman içerisinde değişikliğe uğrayabilmektedir.

**Bu duruma;**

- I. Küresel ısınma,
- II. Teknolojik gelişmeler,
- III. Nüfus artışı

**hangilerinin neden olduğu söylenebilir?**

- A) I ve II                      B) I ve III                      C) II ve III                      D) I, II ve III

6. Bir ilin komşu illere, yeryüzü şekillerine, su kaynaklarına, tarihî mekânlarına ve doğal güzelliklerine bağlı olarak ortaya çıkan kendine has özelliklerinin tümü o ilin göreceli konumunu oluşturur.

**Buna göre aşağıdakilerden hangisi göreceli konum ile ilgili değildir?**

- A) Hakkari'nin dağlık bir yapıya sahip olması.
- B) Adana'nın Mersin'e sınırı olması.
- C) Nevşehir'in yer altı şehirlerine sahip olması.
- D) İstanbul'un nüfusunun fazla olması.

7.



**Türkiye siyasi haritası incelendiğinde,**

- I. İstanbul
- II. Çanakkale
- III. Balıkesir

**illerinden hangilerinin hem Avrupa'da hem de Asya'da toprağı olduğu söylenebilir?**

- A) I ve II                      B) I ve III                      C) II ve III                      D) I, II ve III

8. "Tarihî varlıklar, geçmiş uygarlıklardan günümüze kadar ulaşan; din, bilim, düşünce, sanat, edebiyat, mimari gibi alanlarda ortaya konmuştur. Tarihî varlıklar, doğal varlıkların aksine insanlar tarafından yapılmıştır. Tarihî varlıklar; tarihî mekânlar, tarihî eserler ve tarihî nesnelere olarak gruplandırılır. Tarihî mekân, eser ve nesnelere genellikle bir arada bulunsa da özellikleri bakımından birbirinden ayırt edilebilir."

**Buna göre, aşağıdakilerden hangisi tarihî varlık değildir?**

- A) Sümela Manastırı  
C) Van Gölü  
B) Topkapı Sarayı  
D) Galata Kulesi

9. Sümerlerin şehir merkezlerinde "ziggurat" adı verilen yapılar bulunmaktadır. Genellikle yedi katlı olarak inşa edilen bu yapılar, birer tapınak olarak bilinse de farklı amaçlarla da kullanılmıştır. En üst katlar rasathane (gözlemevi) olarak kullanılmıştır. Ara katlarda okul ve tapınak bulunmaktadır. Sümerler, zigguratların alt katlarını kıtlık tehlikesine karşı tahıl ambarı olarak kullanmışlardır.

**Bilgiye göre zigguratların kullanımı Sümerlerin ortak mirasına aşağıdaki hangi alanda katkı yaptığını göstermez?**

- A) Bilim  
B) Eğitim  
C) Ekonomi  
D) Askerî

10. "Bir vatanın sahibi olmanın yolu; o topraklarda yaşanmış tarihî olayları bilmek, doğmuş uygarlıkları tanıma ve sahip olmaktan geçer." (Mustafa Kemal Atatürk)

**Atatürk'ün ifadesi hangi alanda okur yazar olmanın önemini göstermektedir?**

- A) Dijital okuryazarlığın  
C) Kültür okuryazarlığının  
B) Görsel okuryazarlığın  
D) Finansal okuryazarlığın

**23 OCAK 2025  
PERŞEMBE**

**DIET DENEMESİ  
04**

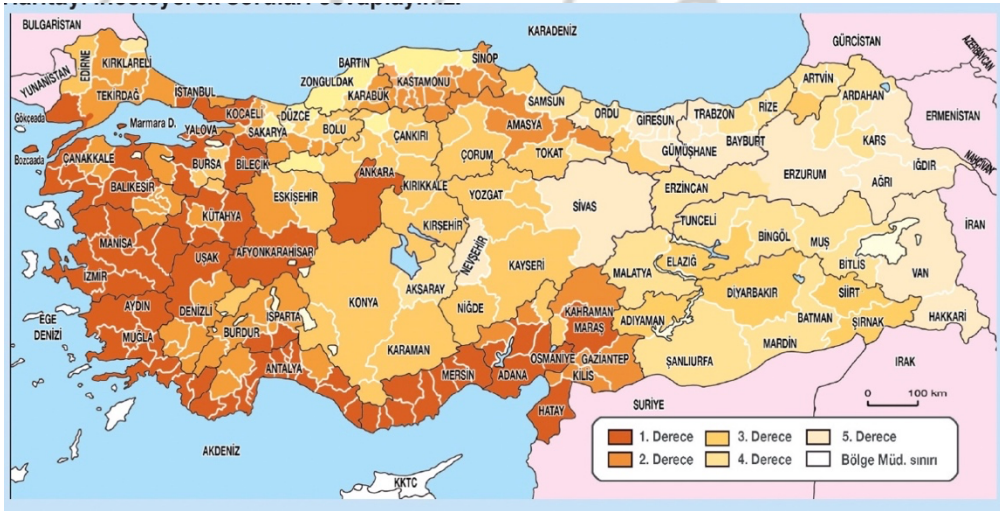
**D:  
Y:**

1. Toplumsal hayatımızı oluřturan diđer bir grup da arkadař grubudur. Arkadařlarımızla oyun oynar, ders alıřır, sanat ve spor etkinliklerine katılırız. Boylence nitelikli ve eđrenceli vakit geiririz.

**Buna gre, arkadař grubunun ařađıdakilerden hangisine katkı sađladıđı sylenemez?**

- A) Sosyalleřmeye
- B) Nitelikli zaman geirmeye
- C) Eđlenmeye
- D) Para kazanmaya

2. Trkiye Orman Yangını Riski haritası řoyledir:



**Buna gre ařađıdaki illerden hangisinde orman yangını riski daha azdır?**

- A) Antalya
- B) İzmir
- C) Muđla
- D) Sivas

3. İnsanların, M 10000 yıllarında yerleşik yařama geerek tarımsal retime bařladıđı kabul edilmektedir. Yerleşik yařamla beraber bařlangıta birkaç kulbeden oluřan birimler, giderek sayıları artan yapılarla ky boyutlarına ulařmıřtır. Kimileri de nfus artışına bađlı olarak gnmz kasabaları llerine eriřmiřtir. Malzeme ve planlarda zaman iinde deđişiklik olmuř, binalara yeni gereksinimleri karřılayacak ekler yapılmıřtır. Bu yerleşimlerde konutlar belli bir planlamaya gre konumlandırılırken sosyal veya dinī gereksinimleri karřılayan zel yapılar da inřa edilmiřtir.

**Verilen metinde;**

- I. Beslenme
- II. Barınma
- III. Yerleşme

**unsurlarından hangileri hakkında bilgi verilmiřtir?**

- A) I ve II
- B) I ve III
- C) II ve III
- D) I, II ve III



7. Aşağıdaki ülke-para eşleştirmelerinden hangisi yanlıştır?

- A)İran-Riyal                      B)Gürcistan-Lari                      C)Yunanistan-Avro                      D)Suriye-Dinar

8. Geçmişte yaşamış insanlara ait kalıntıların ve izlerin bulunduğu alanları tarihî mekân olarak adlandırabiliriz. Bu alanlar çoğunlukla eski yerleşim yerleridir. İbadet merkezleri, savaş alanları gibi yerler tarihî mekânlar arasında yer alır.

Bilgiye göre aşağıdakilerden hangisi tarihî mekân değildir?

- A) Dolmabahçe Sarayı                      B) Efes Antik Kenti  
C) Çanakkale Millî Parkı                      D) Tuz Gölü

9. Babilliler, Başkent Babil’de Marduk Zigguratu, İhtar Kapısı ve dünyanın yedi harikasından biri kabul edilen Babil Asma Bahçeleri’ni yapmışlardır.

Bu durum Babiller’in hangi alanda ileri gittiklerini gösterir?

- A) Mimari                      B) Bilim                      C) Eğitim                      D) Ticaret

10. Lidyalılar;

- Efes’ten başlayıp Mezopotamya’ya kadar uzanan Kral Yolu’nu yapmıştır.
- Parayı icat etmişlerdir.

Buna göre, Lidyalıların ortak mirasa hangi alanda katkı sağladığı söylenebilir?

- A) Ekonomi                      B) Hukuk                      C) Kültür                      D) Sanat

<b>24 OCAK 2025 CUMA</b>	<b>DİET DENEMESİ 05</b>	<b>D: Y:</b>
------------------------------	-----------------------------	------------------

1.Toplumsal hayatımızın önemli bir bölümü burada geçmektedir. Burada yeni bilgiler öğrenir, arkadaşlarımızla güzel vakit geçirir, kulüplerde yer alırız.

**Bilgi verilen grup aşağıdakilerden hangisidir?**

- A) Okul                      B) Aile                      C) Komşu                      D)Sivil Toplum Kuruluşu

2. Ülkemizde **en fazla** can ve mal kaybına yol açan doğal afet aşağıdakilerden hangisidir?

- A) Sel                      B) Çığ                      C) Deprem                      D) Heyelan

3.Çatalhöyük'te yaşayan insanlar; yabani buğday, ekmeklik buğday, arpa, baklagiller ve mercimek gibi ürünleri ekip, hasat ederek tarımsal üretim yapmışlardır. Sığırı evcilleştirmiş; koyun, keçilerden faydalanmış ve balıkçılık yapmışlardır. Tuz ve obdisyeni diğer uygarlıklarla takas etmişlerdir.

**Bu durum Çatalhöyük'te,**

- I. Tarım  
II. Hayvancılık  
III. Ticaret

**ekonomik faaliyetlerinden hangilerinin yapılmasına kanıt oluşturur?**

- A)I ve II                      B)I ve III                      C)II ve III                      D)I, II ve III

4.Ülkemizde meydana gelebilecek afetlere karşı bireysel tedbirlerin yanı sıra toplumsal bazı tedbirlerin de alınması gerekmektedir.

**Aşağıdakilerden hangisi toplumsal tedbirlerden biridir?**

- A) Afetler konusunda okulda verilen eğitimlere önem vermek.  
B) Birlik ve beraberliğe önem vererek bu yönde hareket etmek.  
C) Afetler ve alınabilecek tedbirler hakkında araştırma yapmak.  
D) Afet anında ve sonrasında yapılması gerekenleri planlamak.

**5. Afetlerin etkisini artıran risklerin eşleştirildiği hangi seçenek doğru değildir?**

	<b>Afet</b>	<b>Risk</b>
A)	Deprem, yer kabuğunun derin katmanlarının kırılıp yer değiştirmesi ile oluşan sarsıntılardır.	Fay hatları üzerinde yerleşim yeri kurmak.
B)	Erozyon, toprağın üst tarafındaki verimli kısmın su ve rüzgâr etkisiyle taşındığı bir afettir	Bitki örtüsünü tahrip etmek.
C)	Orman yangını, doğal ya da insani sebeplerle ortaya çıkarak ağaçların ve bitki örtüsünün kısmen veya tamamen yanmasıdır.	Yangın söndürme ekipmanlarını artırmak.
D)	Sel; aşırı yağışlar veya karın hızla erimesi sonucu ani, büyük ve düzensiz su akıntılarının meydana gelmesidir.	Dere yataklarına ev inşa etmek.

6.Yaşam alanlarımızda ev, apartman, sokak, park, okul, yol, köprü, hastane, okul, market gibi birçok yapı bulunmaktadır .

**Metinde geçen yapıların yapılma amaçları arasında aşağıdakilerden hangisi sayılamaz?**

- A) Ulaşımı sağlamak  
B) Enerji üretmek  
C) Eğitim görmek  
D) Barınmak

7. Ülkemizin bazı komşularına ve başkentlerine tabloda yer verilmiştir.

	<b><u>Komşumuz</u></b>	<b><u>Baskenti</u></b>
I.	Gürcistan	Erivan
II.	Yunanistan	Atina
III.	İran	Tahran
IV.	Suriye	Şam

**Tablonun kaçınıcı satırında yanlışlık yapılmıştır?**

- A) I  
B) II  
C) III  
D) IV

8. Geçmiş zamanlarda askerlik, eğitim, konaklama, ulaşım gibi amaçlar ve ekonomik nedenlerle inşa edilen yapılar ise tarihî eser olarak kabul edilir.

**Buna göre aşağıdaki tarihî eserlerden hangisinin işlevi yanlıştır?**

	<b><u>Tarihî eser</u></b>	<b><u>İşlevi</u></b>
A)	Medrese	Eğitim
B)	Kervansaray	Konaklama
C)	Köprü	Ulaşım
D)	Bedesten	Temizlik

9. Çevremizdeki tarihî varlıkları korumak hepimizin görevidir.

**Bu durum aşağıdakilerden hangisinin bir gereğidir?**

- A) Adil olmanın  
B) Paylaşımçı olmanın  
C) Dürüst davranmanın  
D) Kültürel mirasa saygı duymanın

10. Lidyalılar parayı icat etmiştir.

**Bu durumun sonuçları arasında hangisi sayılamaz?**

- A) Takas usulünün sona ermesi  
B) Alışverişin kolaylaşması  
C) Ekonomin gelişmesi  
D) Savaşların sona ermesi

27 OCAK 2025  
PAZARTESİ

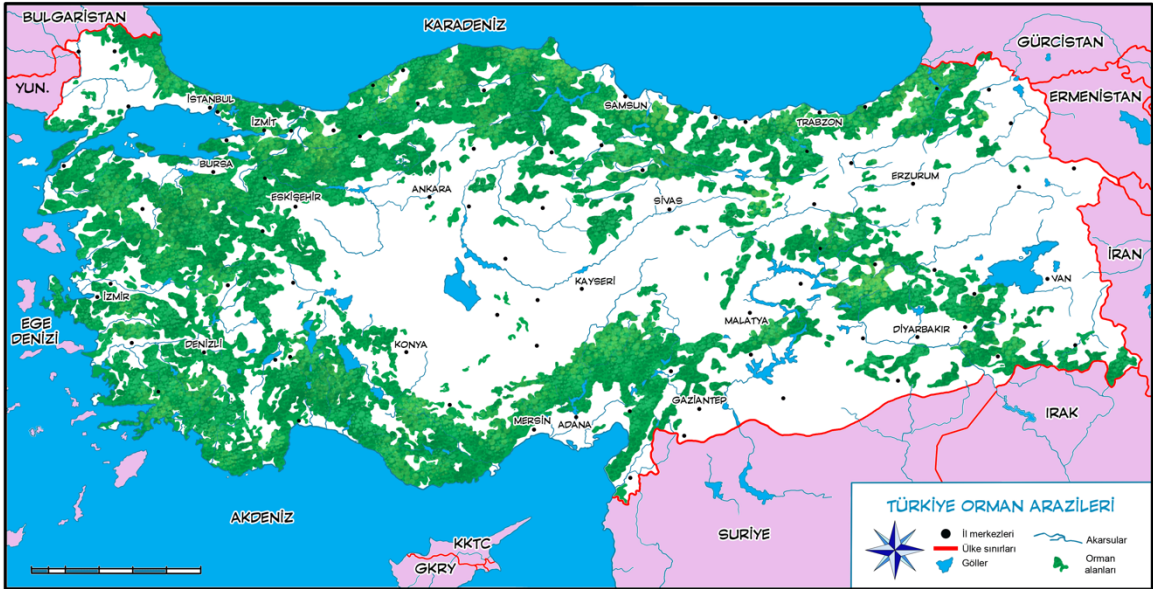
DIET DENEMESİ  
06

D:  
Y:

1.Kültür, bir milletin tarih boyunca meydana getirdiği maddi ve manevi değerlerinin bütünüdür. Toplum içinde dayanışma, birlik ve beraberliğin sağlanmasında önemli bir yer tutar. Kültür, bir toplumu millet yapan ve diğer milletlerden ayıran önemli özelliklerdir. Bu yönüyle Türk kültürü, Türk milletinin hayat tarzını yansıtır.  
**Buna göre, aşağıdakilerden hangisi Türk kültürüyle ilgili değildir?**

- A) Büyüklerimizin ellerini öpmek
- B) Kuru fasulye tüketmek
- C) Tango dansı öğrenmek
- D) Türkü söylemek/dinlemek

2.Ülkemizde ormanların dağılışını gösteren harita şöyledir:



© Çanta Yayıncılık

**Buna göre, aşağıdaki illerden hangisinde erozyon görülme riski daha fazladır?**

- A) Rize
- B) Mersin
- C) Sivas
- D) Denizli

3. İnsanlar, üretim yapmaya başlamadan beslenme ihtiyaçlarını karşılamak için çevrelerindeki hazır bitkileri, meyveleri toplamışlar; avlanmışlar ve doğal kaynaklardan yararlanmışlardır. Beslenmek ve su gereksinimi karşılamak için elverişli ve güvenli yerlere giderek sürekli yer değiştirmişlerdir. Bu insanlar, yaşamak ve vahşi hayvan saldırılarından kaçınmak için mağaralara yerleşmişlerdir.

**Verilen metin değerlendirildiğinde aşağıdaki yargılardan hangisine ulaşamaz?**

- A) İnsanlar ilk başta yüzyıllarca avcı ve toplayıcı olarak yaşamışlardır.
- B) Yiyecek ve su ihtiyacını karşılamak için göçebe yaşam tarzını benimsemişlerdir.
- C) Barınmak ve korunmak ihtiyacı için doğadan yararlanmışlardır.
- D) Güvende olmak için köyler kurarak toplu yaşamayı tercih etmişlerdir.



4.Hacılar'da güvenlik için örülen duvarları içinde kalan yerleşim yerlerinde çok sayıda çanak çömlek kalıntısına ulaşılmıştır. Küplerin içinde ve odaların tabanları üzerine dağılmış çok miktarda yanmış buğday ve arpa tohumu bulunmuştur. Buradaki insanlar sığır, koyun, keçi gibi hayvanlardan faydalanmışlardır.

**Buna göre, Hacılar için hangisi söylenemez?**

- A) Hayvanların evcilleştirildiği
- B) Tarımsal üretim yapıldığı
- C) Şehrin savunmaya önem verdiği
- D) Yazının kayıtlarda kullanıldığı

5. Ülkemizde afete dönüşebilen birçok doğa olayı gerçekleşmektedir. Afetlerin oluşum nedenleri şöyledir:

- I. Yeryüzü hareketlerine bağlı olarak ortaya çıkan afetler.
- II. Hava durumu ve iklime bağlı ortaya çıkan afetler.
- III. İklim ve yeryüzü hareketlerinin yanında insan faaliyetleri sonucu ortaya çıkan afetler.

**Bu afetlere uygun örnekler hangi seçenekte doğru verilmiştir?**

	I	II	III
A)	Fırtına	Erozyon	Heyelan
B)	Fırtına	Heyelan	Kar
C)	Deprem	Kar	Erozyon
D)	Deprem	Erozyon	Kar

6. İnsanlar doğal çevreden yararlanırken onda değişiklik yaparlar.

**Buna göre hangi seçenekte yanlışlık yapılmıştır?**

	<u>Doğal Ortamdan Yararlanma Amacı</u>	<u>Doğal Ortamda Yapılan Değişiklik</u>
A)	İçme suyu sağlamak	Barajlar yapmak
B)	Enerji üretmek	Rüzgâr tribünleri kurmak
C)	Eğlenmek ve dinlenmek	Viyadükler inşa etmek
D)	Beslenme ihtiyacını gidermek	Tarlaları sürmek ve ekmek

7. Irak'ın bağımsızlık sembolleri hakkında bilgi veren 5. Sınıf öğrencisi Buğlem aşağıdaki cümlelerden hangisini kullanmış olamaz?

- A) Başkenti Bağdat'dır.
- B) Para birimi Riyal'dir.
- C) Dili Arapça'dır.
- D) Yönetim biçimi krallıktır.

8. Gemiřten gnmze kalan eřya, silah, takı, heykel ve resimler tarih nesnelere oluřturur. Tarih nesnelere, genellikle kk boyutlu olup bir yerden bařka bir yere tařınabilir. Tarih nesnelere ounlukla mzelerde sergilenir.

**Buna gre ařağıdakilerden hangisi tarih bir nesne deęildir?**

- |                  |                 |
|------------------|-----------------|
| A) Lidya parası  | B) Hitit vazosu |
| C) Bizans kılıcı | D) Trk kahvesi |

9. Hammurabi Kanunları'ndan bazı rnekler řoyledir:

- Bir kiři, bir bařkasını lm cezası gerektirecek bir sula itham edip suunu kanıtlayamazsa sulayan kiři lm cezasına arptırılır.
- Hırřızlık yapan bir kiři yakalanırsa o kiři lme mahkm edilir.
- Bir kiři, toplumda kendisiyle aynı seviyedeki bir kiřinin diři zarar verirse zarar verenin de diři ekilir.

**Buna gre, bu kanunlar iin ařağıdaki yargılardan hangisine ulařılabilir?**

- A) Kısas usul benimsenmiřtir.
- B) Eřitliki bir yapısı vardır.
- C) Suun řahsilięi ilkesine uygundur.
- D) Sulara hafif cezalar verilmiřtir.

10. Lidyalılar, sınırları iinde ticaret yapan tccarların mallarını korumak iin devlet gvencesi vermiřtir.

**Bu durum dnyada hangi uygulamanın ilk rneęidir?**

- |               |                 |
|---------------|-----------------|
| A) Bankacılık | B) Sigortacılık |
| C) Gvenlik   | D) Dokumacılık  |

<b>28 OCAK 2025 SALI</b>	<b>DIET DENEMESİ 07</b>	<b>D: Y:</b>
------------------------------	-----------------------------	------------------

1. "... Hollandalı yazılım mühendisi Jan Linkens (Jan Linkins), tatil için Aydın'ın Kuşadası ilçesine geldi. Buranın doğasına hayran kaldı. Ertesi yıl geldiğinde, su altının güzelliklerini görebilmek için yüzmeyi öğrenip tüplü dalış eğitimi almaya başladı. Dalış yapmak ve arkadaşlarıyla bir araya gelmek için yirmi beş yıldır tatillerini Kuşadası'nda geçiren Linkens, Türkiye'nin su altı habitatu ve tarihî yapı zenginliğinin yanında kabak çiçeği dolması gibi lezzetli yemekleri olduğunu söyledi. Ayrıca Kuşadası'nda güzel arkadaşlıklar kurduğunu, ülkesinin simgelerinden olan lalenin Osmanlı Devleti'nden Hollanda'ya götürüldüğünü duyunca çok şaşırdığını ve gelecekte Kuşadası'na yerleşmeyi planladığını dile getirdi.

**Buna göre Jan Linkens'in açıklamalarından yola çıkılarak kültürlerin bir araya gelmesini sağlayan hangi unsura örnek verilebilir?**

- A) Turizm                      B) Eğitim                      C) Spor                      D) Ticaret

2. 5. Sınıf öğrencisi Aybüke yaşadığı il için "Efes Antik kenti şehrimizdedir." diyorsa hangi göreceli konum özelliği hakkında bilgi veriyordur?

- A) Yeryüzü şekillerine                      B) Su kaynaklarına  
C) Komşularına                      D) Tarihi mekânlarına

3. Göbeklitepe; Şanlıurfa'nın 20 km kuzeydoğusundaki Örencik köyü yakınlarında, yaklaşık 300 m çapında, 15 m yüksekliğinde ve geniş görüş alanına hâkim bir konumda yer almaktadır. Günümüzden yaklaşık 12 bin yıl önce avcı ve toplayıcı yaşam tarzı süren insanlar tarafından inşa edilen Göbeklitepe, tarihte bilinen ilk inanç merkezidir. Göbeklitepe'den çıkarılan aslan, boğa, tilki, turna, yılan, insan tasvirli ve özel figürlerin olduğu dikili taşlar 4-6 m yüksekliğinde ve 10-14 ton ağırlığındadır. Bu dikilitaşlar, Göbeklitepe'nin yaklaşık 500 m kuzeyinde bulunan taş ocağından "T" şekli verilerek tek parça hâlinde tapınak alanına getirilmiştir. Göbeklitepe'de insanlar yaşam sürmemiştir. Başka yerlerde yaşayarak Göbeklitepe'yi ziyaret için gelmişlerdir. Göbeklitepe'ye 50-200 km mesafede yaşayan insanlar, yılın belirli bir döneminde kısa süreli olarak buraya gelmiş, tapınma eylemi bitinceye kadar burada kalmış ve yaşadıkları yerlere dönmüşlerdir.

**Verilen metin değerlendirildiğinde Göbeklitepe için aşağılardan hangisi söylenemez?**

- A) Kutsal bir alan olarak kullanıldığı  
B) Sürekli yerleşme için tercih edildiği  
C) Farklı özellikte eserlere rastlandığı  
D) Buluşma alanı özelliği taşıdığı

4.Yerleşik yaşamın başlamasıyla insanların beslenmesinde tarım ve hayvancılık önemli bir yer almıştır. Tahıla dayalı beslenme alışkanlığının ortaya çıkması, yemek için birtakım hazırlıklar yapmayı ve yeni çözümler üretmeyi gerektirmiştir.

- I. Yetişen tohumları, hayvan boynuzlarından ve obsidiyen taşlarından yaptıkları oraklarla hasat etmişlerdir
- II. Tahıl tanelerini ufalamaya ve un hâline getirmeye yarayan taştan öğütücü aletler
- III. Alçı, kerpiç ve taştan yaptıkları ocak ile fırınlar, sulu yemekler için taştan ve kilden çanak çömlekler üretmişlerdir.

**Buna göre, numaralanmış ifadelerin ilişkilendirileceği faaliyetler hangi seçenekte doğru verilmiştir?**

	<b>I</b>	<b>II</b>	<b>III</b>
A)	Öğütme	Biçme	Pişirme
B)	Öğütme	Pişirme	Biçme
C)	Biçme	Öğütme	Pişirme
D)	Biçme	Pişirme	Öğütme

5. Afetlerin ülkemizin bir gerçeği olduğunun kabul edilmesi, toplumsal bilinç oluşturulması, birlik ve beraberliğe önem verilmesi toplumsal olarak alınacak tedbirlerin başında gelmektedir.

**Buna göre;**

- I. Acil bir durum olmadıkça iletişim araçlarını kullanmamalıyız.
- II. Afetler konusunda okulda verilen eğitimlere önem vermeliyiz.
- III. Mümkün olduğunca panik yapmadan hareket etmeliyiz.

**önlemlerinin “Afet Öncesi”, “Afet Sırasında” ve “Afet Sonrasında” olarak sınıflandırılması hangi seçenekte doğru eşleştirilmiştir?**

	<b>Afet Öncesinde</b>	<b>Afet Sırasında</b>	<b>Afet Sonrasında</b>
A)	I	II	III
B)	I	III	II
C)	II	I	III
D)	II	III	I

6. Doğal çevredeki değişimin bazı sonuçları vardır.

**Aşağıdakilerden hangisi bu sonuçlardan biri değildir?**

	<b>Doğal Çevredeki Değişim</b>	<b>Değişimin Sonuçları</b>
A)	Bitki örtüsünün tahrip edilmesi	Erozyon riskinin artması.
B)	Hızlı ve plansız kentleşmenin artması	Altyapı sorunlarının çıkması
C)	Yeni yolların, köprülerin yapılması	Ulaşımın zorlaşması
D)	Sanayi kuruluşlarının kontrolsüz şekilde artması	Toprak, hava ve su kirliliği yaşanması

**7.Ülkemizin komşularının aşağıdaki egemenlik sembollerinden hangisi ortaktır?**

- A) Resmî dilleri  
B) Para birimleri  
C) Bayrakları  
D) Yönetim biçimleri

**8. UNESCO'nun Somut Kültürel Miras Listesi ve Somut Olmayan Kültürel Miras Listesi'nde Türkiye'den birçok kültürel öge bulunmaktadır. UNESCO, T.C. Kültür ve Turizm Bakanlığının da girişimleriyle ülkemizden 21 somut, 30 somut olmayan ögeyi belirleyip bu kültürel miras öğelerini koruma altına almıştır. Önümüzdeki yıllarda bu sayının artması beklenmektedir.**

**Aşağıdakilerden hangisi ülkemizdeki somut olmayan kültürel miraslardandır?**

- A) Efes Antik Kenti  
B) Divriği Ulucami ve Darüşşifası  
C) Safranbolu  
D) Karagöz

**9. Mezopotamya, Mısır ve Anadolu'nun güneyine hâkim olan Asurluların başkenti Ninova'dır. Asurlular, saray ve tapınak duvarlarını av ve savaş tasvirleri ile süslemişlerdir. Ayrıca posta teşkilatı oluşturmuşlar ve barajlar yapmışlardır.**

**Verilen bilgilerden hareketle, Asurluların,**

- I. Haberleşme  
II. Tarım  
III. Sanat

**alanlarının hangilerinde çalışma yaptıkları söylenebilir?**

- A) I ve II  
B) I ve III  
C) II ve III  
D) I, II ve III

**10. İyonların deniz ticareti ile uğraşıp birçok medeniyet ile etkileşim hâlinde olması ve bilimin zengin kişilerce desteklenmesi;**

- I. Bilim  
II. Sanat  
III. Özgür düşünce

**hangilerinin gelişmesi üzerinde etkili olmuştur?**

- A) I ve II  
B) I ve III  
C) II ve III  
D) I, II ve III

29 OCAK 2025  
ÇARŞAMBA

DİET DENEMESİ  
08

D:  
Y:

1. "... Bir ortaokulda oluşturulan sosyal yardımlaşma ve dayanışma kulübünün öncülüğünde sınıflara ve okulun belli bölgelerine kumbaralar konuldu. Öğretmen, öğrenci ve velilerin bağışlarıyla 7 yılda Somali, Uganda, Togo, Tanzanya, Kamerun, Uganda, Çad, Hindistan, Pakistan, Nepal gibi ülkelerde yetimhane, mescit, okul, sağlık ocağı ve su kuyuları yaptırılmıştır..."

**Bu okuldaki öğrencilerin aşağıdaki değerlerden hangisini benimsediği söylenebilir?**

- A) Adalet                      B) Çalışkanlık                      C) Yardımseverlik                      D) Dürüstlük

**2. Türkiye’de erozyonun etkisini gösteren harita şöyledir:**



**Buna göre aşağıdaki çevrelerden hangisinde erozyonun etkisi daha fazladır?**

- A) Doğu Akdeniz                      B) Batı Karadeniz  
C) Doğu Karadeniz                      D) Fırat ve Dicle

3. "... Dünyada yerleşmenin olduğu ilk yerlerden Çatalhöyük'teki kazıda 8 bin 600 yıllık ekmek bulundu. Çatalhöyük'te fırın yapısı keşfedildi. Büyük ölçüde tahrip olan fırının çevresinde buğday, arpa, bezelye tohumları ve yiyecek olabileceği değerlendirilen avuç içi büyüklüğünde bir buluntuya rastlandı.

**Verilen metin, Çatalhöyük'te hangi insan faaliyetine bir kanıt oluşturur?**

- A) Beslenme      B) Barınma      C) Isınma      D) Aydınlanma

4.

- Nüfusun artması
- İhtiyaçların çeşitlenmesi
- Teknolojinin gelişmesi
- Kaynakların bilinçsizce tüketilmesi

**Verilenler hangisinin nedenleridir?**

- A) Doğal ve beşerî çevrede değişimlerin  
B) Ortalama insan ömrünün artmasının  
C) Okur yazar oranının artmasının  
D) Bilimsel faaliyetlerin

5. Elif Sude, ailesiyle Yunanistan gezisine gitmeden önce bu ülkede harcamak için bir miktar döviz almak istemektedir.

**Buna göre, Elif Sude aşağıdaki para birimlerinden hangisini almalıdır?**

- A) Dinar      B) Leva      C) Riyal      D) Avro

6. Aşağıdaki seçeneklerden hangisi UNESCO Ortak Miras Listesi'ne alınma kriterlerinden biri değildir?

- A) İnsanlık tarihinde önemli bir aşamayı veya aşamaları gösteren bir öge olmalıdır.  
B) Yaşayan ya da ortadan yok olmuş bir kültürel geleneğe veya bir medeniyete yönelik tanıklık üstlenmelidir.  
C) Bir zaman zarfı içinde veya dünyanın bir kültürel alanında, mimarlık ya da teknoloji, anıtsal sanatlar, şehir planlama alanlarındaki gelişmeler ile ilgili insani değerler arasında önemli bir alışverişi sergilemelidir.  
D) Herhangi bir özelliğiyle dikkat çeken, kitleleri etkileme gücü olan, farklı bir doğal güzelliğe ve estetik öneme sahip alanları içermelidir.

7. Anadolu'daki en önemli ticaret merkezi Kültepe (Kayseri) olmuştur. Asurlu tüccarlar, burada evleri ve dükkânları içine alan büyük bir karum (pazar yeri) kurmuşlardır. Kültepe'de yapılan kazılarda Asurlu tüccarların ticari yazışmalarını belgeleyen 20 binin üzerinde çivi yazılı tablet bulunmuştur. Bu tabletler, Anadolu'da bilinen ilk yazılı tablet örnekleridir.

**Buna göre, Kültepe'nin Anadolu'nun;**

- I. Kültürel
- II. Ekonomik
- III. Askerî

**alanlarının hangilerinin aydınlatılmasında önemli rol oynadığı söylenebilir?**

- A) I ve II                      B) I ve III                      C) II ve III                      D) I, II ve III

**8. Anadolu uygarlıkları tarafından kurulan şehirlerden;**

- I. Hattuşa
- II. Efes
- III. Gordion

**hangileri Dünya Miras Listesi'ndedir?**

- A) Yalnız II                      B) I ve II                      C) II ve III                      D) I, II ve III

**9. Tarih, aşağıdakilerden hangisinin icadıyla başlar?**

- A) Yazının                      B) Paranın                      C) Takvimin                      D) Ateşin

**10. İyonya'da farklı alanlarda çalışmalar yapan Hipokrat (tıp), Herodot (tarih), Pisagor (matematik) gibi kişiler yetişmiştir.**

**Bu durum İyonların hangi alanda dünya ortak mirasına katkı sağladıklarını gösterir?**

- A) Bilim                      B) Sanat                      C) Hukuk                      D) Ekonomi



<b>30 OCAK 2025 PERŞEMBE</b>	<b>DİET DENEMESİ 09</b>	<b>D: Y:</b>
----------------------------------	-----------------------------	------------------

**1.Aşağıda verilen kişilerden hangisinin kültürel farklılıklara saygı duyduğu söylenemez?**

- A) Avrupa Futbol Şampiyonasında rakip ülke taraftarıyla birlikte maç izleyen Ebrar'ın
- B) Eliyle yemek yiyen Hintli birini görünce gülen Ayşe'nin
- C) Tatil yerinde Afrikalı bir aile ile fotoğraf çektiren Eslem'in
- D) Siyah tenli biriyle ülkesini hakkında sohbet eden Buğra'nın

**2.Türk toplumunun önemli özelliklerinden biri yardımlaşma ve dayanışmaya önem vermesidir. İyi ve kötü günlerde birlik ve beraberlik içinde hareket etmesidir. Milletimiz sevinçleri paylaşarak çoğaltmış, hüznüleri omuz omuza vererek azaltmıştır.**

**Aşağıdakilerden hangisi bu duruma örnek olarak verilemez?**

- A) 6 Şubat depreminin ardından yardım organizasyonları düzenlenmesi
- B) Ülkemizin çok sayıda yabancı turist tarafından ziyaret edilmesi
- C) Ülkemizin her yerinde "Askıda Ekmek" faaliyetlerinin yapılması
- D) Tarihsel süreçte "Sadaka Taşı" ve "Zimem Defteri" uygulamalarının görülmesi

**3.Aşağıdaki ortak miras eserlerinden hangisi ülkemizde değildir?**

- A) Mostar Köprüsü
- B) Aphrodisias
- C) Arslantepe Höyüğü
- D) Truva Antik Kenti

**4. Çayönü'nde yaşayan insanlar, ilk barınma alanlarını yuvarlak planlı basit kulübelere yapılmışlardır. Doğal ve beşerî etkenlerden dolayı zamanla ızgara planlı, kanallı, taş döşemeli, hücre planlı ve geniş odalı yapılar gibi birbirinden farklı mimari tasarımda binalar inşa etmişlerdir. Hücre planlı yapıların inşa edildiği dönemde bodrum katı gibi olan bu hücreleri kiler veya depo olarak kullanmışlardır. Asıl yaşam alanını bunun üzerine ikinci bir kat gibi yapmışlar ve bu kata dıştan bir taş merdivenle ulaşmışlardır. Üstü düz çatı ile örtülen yapıları kerpiçten yapmışlardır.**

(Sevin, V. (2003). s. 23-28)

**Metinde belirtilen durum Çayönü'nden zaman içerisinde hangi anlayışın geliştiğini kanıtlar?**

- A) Mimari
- B) Eğitim
- C) Beslenme
- D) Ekonomi

5. Anadolu'daki tarih öncesi dönemlere ait yerleşmelere ait bilgiler şöyledir:

- I. Çayönü'nde obsidiyen (doğal cam), deniz kabuğu kalıntıları, işlenmiş ve işlenmemiş bakır külçeleri bulunmuştur. Bakır önce ısıtılıp, dövülerek levha hâline getirilmiş; sonra bakırdan biz, iğne, boncuk gibi aletler elde edilmiştir.
- II. Hacılarda yaşayan insanlar çömlekçi atölyelerinde oval ağızlı kâseler, küre gövdeli çömlekler, iri vazolar, dikdörtgen çanaklar, küpler, testiler ve değişik kap formlarının yanı sıra taş, kemik ve az sayıda bakır eşya da yapmışlardır.
- III. O dönemde Çatakhöyük'te yaşayan insanlar, Hasan Dağı'ndan obsidiyen ve tuz yataklarından tuz çıkarmışlardır. Bunları hem kendi ihtiyaçları için kullanmışlar hem de satmışlardır. Çıkardıkları obsidiyen taşından ok ve mızrak uçları, ayna gibi eşyalar yapmışlardır.

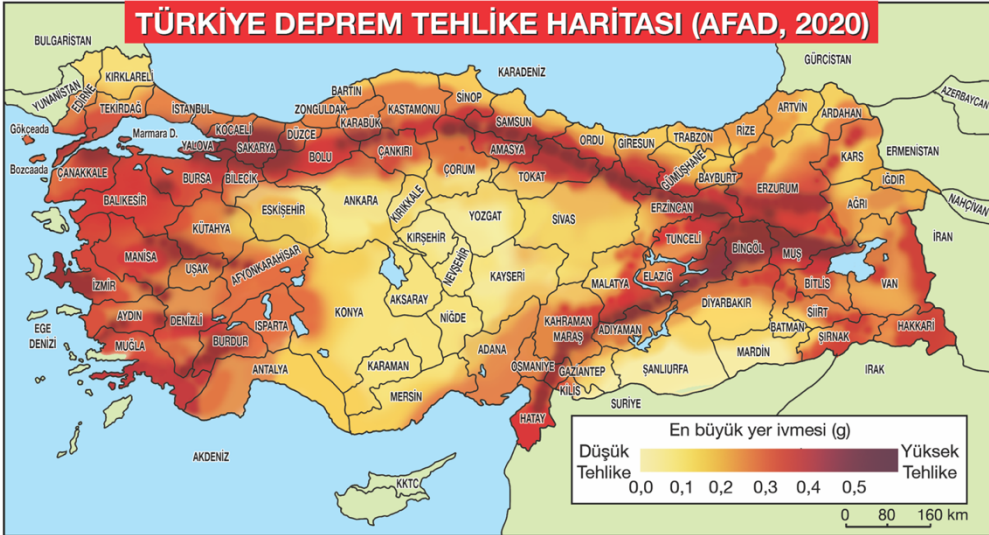
**Bu bilgilerden Çatalhöyük'te;**

- I. Madencilik
- II. Takıcılık
- III. Çömlekçilik

**mesleklerinden hangisinin görüldüğü söylebilir?**

- A) Yalnız III      B) I ve II      C) II ve III      D) I, II ve III

6. Türkiye Deprem Tehlike Haritası aşağıdaki gibidir:



**Haritaya göre;**

- I. Hatay
- II. Kahramanmaraş
- III. Sakarya

**illerimizin hangilerinde deprem riski daha fazladır?**

- A) Yalnız I      B) I ve II      C) II ve III      D) I, II ve III

7. 5. sınıf öğrencisi Aybüke ülkelerin bağımsızlık sembolleriyle ilgili bir ödev hazırlamıştır.

**Aşağıdaki öğelerden hangisi Ayça'nın ödevinde kullandığı bağımsızlık sembollerinden biri olamaz?**

- A) Ekonomik faaliyetleri
- B) Para birimi
- C) Millî marşı
- D) Resmî dili

8. UNESCO tarafından içerisinde hem doğal hem de kültürel özellik taşıyan miraslar "Karma Miras" olarak değerlendirilmektedir.

**Buna göre ülkemizde yer alan;**

- I. Göreme Milli Parkı ve Kapadokya (Nevşehir)
- II. Pamukkale-Hierapolis (Denizli)
- III. Efes Antik Kenti (İzmir)

**hangileri karma miras kapsamındadır?**

- A) Yalnız III
- B) I ve II
- C) II ve III
- D) I, II ve III

9. Anadolu Yarımadası, geçmişten günümüze önemini korumuş bir coğrafyadır. Anadolu'da tarih boyunca birçok medeniyet kurulmuştur.

**Aşağıdakilerden hangisi bu medeniyetlerden biri değildir?**

- A) Asurlar
- B) Hititler
- C) İyonlar
- D) Lidyalılar

10. İyonlar, Yunanistan'dan göç edenler tarafından kurulmuş bir medeniyettir. Sümerler gibi İyonlar da şehir devletleri hâlinde yaşamışlardır. Efes, Milet önemli şehirleri arasındadır. Deniz ticaretinde ileri giden İyonlar, Akdeniz ve Karadeniz'de koloniler kurmuşlardır.

**İyonların koloniler kurmaları hangi ekonomik faaliyetle uğraştıklarına kanıt oluşturur?**

- A) Tarım
- B) Madencilik
- C) Hayvancılık
- D) Ticaret

<b>31 OCAK 2025 CUMA</b>	<b>DIET DENEMESİ 10</b>	<b>D: Y:</b>
------------------------------	-----------------------------	------------------

1. "... Ganalı Yahaya Abdulai (Yahaya Abdulayi), 2018'de tıp eğitimi almak için Rize'ye geldi. Türkçe öğrenen Abdulai, yöre kültürünü öğrenmek amacıyla çeşitli etkinliklere katıldı. Rize'yi ve Türk kültürünü benimseyip çok seven Abdulai buraya yerleşmeye karar verdi. Kendi kültürünü yöre halkına tanıttı, bölgenin bazı türkülerini ve horon oynamayı öğrendi. Rize'yi ziyaret eden yabancı turistlere horon oynatıp onlara türkü söyledi. Etkinlik videolarını çeşitli sosyal medya platformlarında pay- laşmaya başladı. Büyük beğeni gören Abdulai'nin videoları, bazı sosyal medya platformlarında 1 milyonun üzerinde izlenme sayısına ulaştı. Sosyal medya aracılığı ile yurt dışından bile kendisine ulaşanların olduğunu söyleyen Abdulai, Afrika'dan gelip böyle bir kültürü öğrenmesi, horon oynaması ve türkü söylemesinin insanları şaşırttığını dile getirdi. Yöre sakinleri de Abdulai'yi benimsyerek onu manevi evlatları olarak kabul ettiklerini belirttiler..."

**Üstteki metin aşağıdakilerden hangisine örnek verilemez?**

- A) Farklılıklara saygı duymaya
- B) Birlikte yaşama kültürüne
- C) Kültürler arası etkileşime
- D) Ön yargılı davranmaya

2. Ülkemizde toplumsal yardımlaşma ve dayanışma faaliyetlerine yönelik çalışmalar, kamu kurum ve kuruluşları ile sivil toplum kuruluşları tarafından yürütülmektedir. Kamu kurum ve kuruluşları ülkemizin her yerinde faaliyet göstermektedir. Sivil toplum kuruluşları ise kurulduğu bölgede sosyal yardım çalışmaları düzenlemenin yanı sıra ülke genelinde de faaliyetler yürütür. Kamu kurum ve kuruluşları ile sivil toplum kuruluşları, yaptığı çalışmalarla yoksulluğu azaltmayı ve insanların yaşam koşullarını güzelleştirmeyi amaçlar.

**Bu çalışmalarla,**

- I. Toplumdaki sorunları azaltmak
- II. Toplumsal birlik ve beraberliği sağlamak
- III. Dayanışmayı güçlendirmek

**hangilerinin amaçlandığı söylenebilir?**

- A) Yalnız I
- B) Yalnız II
- C) II ve III
- D) I, II ve III

3. Çatalhöyük'te yaşayan insanlar evlerini kerpiçten yapmışlardır. Birbiriyle iç içe olan bu evlerin arasında sokak yoktur ve insanlar çatıların üzerinde yürümüşlerdir. Evlerine çatılardaki deliklerden içeri uzanan tahta bir merdivenle girmişlerdir. Çatılardaki bu delikler hem pencere hem kapı hem de baca işlevi görmüştür. Odaların içinde masa, divan veya yatak olarak kullanılan, duvarların ön kısımlarında yüksekliği 10-30 cm arasında değişen toprak yükseltisi ve dörtgen ocak bulunmaktadır. Evlerde tarım ürünlerinin stoklandığı yerler vardır. Duvarlar sıvalıdır ve sıva üzeri beyaza boyandıktan sonra sarı, kırmızı ve siyah tonlarda resimler yapılmıştır. Bunların yanında rölyef (kabartma) hâlinde insan ve hayvan figürleri de görülmektedir.  
Bilim Çocuk. Haziran. (2004). s.14-15

**Verilen metinde Çatalhöyük'teki hangi insan faaliyetiyle ilgili bilgi verilmemiştir?**

- A) Sanat                      B) Yerleşme                      C) Beslenme                      D) Askerlik

4. Yerleşik yaşamın başlamasıyla küçük köy toplumlarını oluşturan insanlar arasında mesleğe dayanan iş bölümü başlamıştır. Çömlekçilik, madencilik, süs eşyası yapımı ve takıcılık gibi meslekler (zanaatkârlık) ortaya çıkmıştır. İnsanların tarım ve hayvancılık yaparak üretici konumuna gelmesi ürün fazlalığını ortaya çıkarmıştır. Ürün fazlalığı ise değiş tokuş sistemine dayanan ticareti beraberinde getirmiştir.

**Parça incelendiğinde, ticaret faaliyetlerinin başlamasında aşağıdakilerden hangisi etkili olmuştur?**

- A) İnsanların tüketebileceğinden fazla ürün üretmesi  
B) Avcı-toplayıcı bir yaşam biçiminin benimsenmesi  
C) Paranın icadıyla takas yönteminin sona ermesi  
D) Hayvanların evcilleştirilerek farklı işlerde kullanılması

5.

- I. Park  
II. Akarsu  
III. Camii  
IV. Orman

**Verilenlerin “Doğal Çevre” ve “Beşerî Çevre” olarak sınıflandırılması hangi seçenekte doğru verilmiştir?**

	<u>Doğal Çevre</u>	<u>Beşerî Çevre</u>
A)	I ve II	III ve IV
B)	III ve IV	I ve II
C)	II ve IV	I ve III
D)	I ve III	II ve IV

6. UNESCO, Dünya Mirası Listesi'nde yer alan ögelerin bakım ve onarımı için bir bütçe oluşturup bu ögeleri takibe almaktadır.

**Buna göre, Ülkemizdeki kültürel miras ögelerinin korunmasında sorumlu olan bakanlık aşağıdakilerden hangisidir?**

- A) T.C. Kültür ve Turizm Bakanlığı
- B) T.C. Millî Eğitim Bakanlığı
- C) T.C. Gençlik ve Spor Bakanlığı
- D) T.C. İçişleri Bakanlığı

7. Bazı öğrenciler komşularımızın ülkemize göre yönlerini şöyle ifade etmiştir:

**Azragül:** Yunanistan ülkemizin batı komşusudur.

**Elif Berra:** Suriye ülkemizin güney komşusudur.

**Zehraven:** İran ülkemizin doğu komşusudur.

**Tuba:** Nahcivan ülkemizin kuzey komşusudur.

**Buna göre, hangi öğrencinin verdiği bilgi doğru değildir?**

- A) Azragül
- B) Elif Berra
- C) Zehraven
- D) Tuba

8. Türkiye'nin Somut Olmayan Kültürel Miras Ögelerinden bazılarıyla ilgili bilgiler şöyledir:

- I. İcracılar sol ayakları üzerinde kısa dönüşlerle dönmeye başlarlar ve vücutlarını sol ayakları etrafında döndürmek için sağ ayaklarını kullanırlar. Hem vokal hem de enstrümantal bestelerin dört bölümünden yola çıkarak, en az bir şarkıcı, neyzen adlı bir flütçü, kudüm ve bir ud çalan kişi tarafından icra edilir.
- II. Düğün merasimleri, sünnetler ve dinî bayramlar için hazırlanan geleneksel bir Türk yemeğidir. Kadınlar ve erkekler birlikte çalışarak büyük kazanlarda buğday ve eti pişirir, ardından misafirlere ikram ederler.
- III. Türkiye'de üretilen ve genellikle binaların cephelerinde ve ülkenin dört bir yanındaki evlerde bulunan renkli bitki, hayvan ve geometrik desen motiflerini içeren geleneksel, el yapımı sırlı karo ve seramiklerdir.

**Verilenlerin ilgili olduğu miras ögeleri hangi seçenekte doğru eşleştirilmiştir?**

	I	II	III
A)	Aşıklık	Çay	Tezhip
B)	Meddahlık	İftar	Minyatür
C)	Karagöz	Lavaş	Ebru
D)	Sema	Keşkek	Çini

9. Hititlerde krallar yıl boyunca yaşanan olayları tanrılarına hesap vermek amacıyla kral yıllıklarına yazdırmışlardır. Önemli olayların olduğu gibi yazıldığı kral yıllıklarında objektif bilgilere yer vermişler, zaferleriyle birlikte yenilgilerini de yazmışlardır.

**Buna göre, Hititler anallar ile aşağıdakilerden hangisini başlatmışlardır?**

A) Tarafsız tarih yazıcılığını  
C) Diplomasi faaliyetlerini

B) Değiş-tokuş usulünün sona ermesini  
D) Eğitim-öğretim faaliyetlerini

10. Babil hükümdarlarından biri olan Hammurabi, toplumsal hayatı düzenlemek için "Hammurabi Kanunları" olarak bilinen yazılı kanunlar hazırlatmıştır. Bu kanunlar, Sümer Kanunları'nın yeniden düzenlenmesi sonucunda "kıyas esasına" göre yapılmıştır.

**Metinde, Babillerin hangi alandaki ortak miras katkılarına yer verilmiştir?**

A) Ekonomi

B) Hukuk

C) Kültür

D) Sanat

Metin  
ÖZDAMARLAR