

**6. SINIF
SOSYAL BİLGİLER**

2025 ARA TATİL

**DIET ÇİKOLATASI
DENEMELERİ**

(Destekleme İzleme Eksikleri Tespit Etme)

**ÖĞRENME ÇIKTILARINA UYGUN
HER GÜNE BİR DENEME
10 DENEME
(100 SORU)**

Metin Özdamarlar

ın bu güzel ülkenin birbirinden değerli öğrencilerine hediyesidir.

20 OCAK 2025
PAZARTESİ

DIET DENEMESİ
01

D:
Y:

1.



Duygu ve düşünceleri insana aktaran bir araç olduğu için insan topluluklarını bir yığın ve kitle olmaktan kurtarmış aralarında "duygu ve düşünce birliği" olan bir millet haline getirmiştir.

Gizem kültürü oluşturan hangi öğeden bahsetmiştir?

- A) Dil
B) Din
C) Tarih
D) Sanat

2. ABD kamuoyu bir grup öğrencilerin bir Amerikan yerlisiyle dalga geçtiği görüntüleri tartışıyor. Öğrenciler Kızılderili kökenli kişiye "Duvarı ör! Duvarı ör!" diye bağıarak Amerikalıların yerlileri belli yerlerde tutmasına gönderme yaptı. Görüntüler tepki çekerken, öğrencilerin bağlı olduğu okul yönetimi öğrencilerin davranışını kınadığını duyurdu.

Yukarıdaki haberdeki öğrencilerin hangi alanda kalıp yargıya sahip oldukları söylenebilir?

- A) Irk
B) Din
C) Cinsiyet
D) Özel gereksinim

3. "Çinliler ve Moğolların başını çektiği halklar, Türk milletini tuzağa düşürerek büyük bir bozguna uğrattılar. Kurtulabilenler bir dağa kaçtı. Ortasında otlakları, ağaçları, nehirleri ve gölleri olan bir ovada yaşamaya başladılar. Zamanla sayıları çoğaldı, buraya sığmaz oldular. Ergenekon adı verilen bu yerden çıkmak için dağın içindeki demir madenini eriterek yol açtılar. Yolun açıldığı günü hayatlarının yeniden başlangıcı, yeni yılın ilk günü kabul ettiler. Yolun açıldığı günün yıl dönümünde çeşitli oyunlar, eğlenceler ve spor müsabakaları yaparak, atalarına kurban kestiler."

Ergenekon Destanı'ndan alınan yukarıdaki bölümden; Kök Türk devletinin;

- I. Coğrafi
II. Siyasi
III. Askeri
IV. Kültürel

özelliklerinden hangileri ile ilgili çıkarımda bulunulabilir?

- A) I ve III.
B) I, III ve IV.
C) I ve II.
D) I, II, III ve IV.

4. Kaşgarlı Mahmut'un Divân-ı Lügati't-Türk adlı eserinden bir bölüm şöyledir:

Gezdiğim gördüğüm yerlerde birçok şeyle karşılaştım. Farklı işlerle uğraşan Türklerin yaptıkları meslekleri tespit ettim. Türkler; çiftçilikle meşgul olanlara "tarıcı"(tarımcı), un öğüten kimseye "üğitici"(üğütücü), ekmek pişiren ve satanlara "etmekçi"(ekmekçi) adları veriyor. Türkler; kasaba "etçi", süt sağanlara "koy sakucı"(koyun sütü sağıcı), demişlerdir. Aşçılık da bir meslekti. Aşçıya "salçı" demişler, terzilere "yiçi", ayakkabı ve çizme dikenlere "etükçi" demişlerdir. Demirciyi "temürçi" şeklinde ifade etmişlerdir. Kap kacak yapan zanaatkarlara "ayakçı", kumaş dokuyanlara "közek" adını vermişlerdir. (Mehmet Altay Köymen, Büyük Selçuklu imparatorluğu Tarihi, s. 327-329.)

Bu bölüme göre eserin içeriği için hangisi söylenebilir?

- A) Devlet adamlarına öğütlere yer verir.
- B) Dini bilgilere yer verir.
- C) Bir sözlüktür.
- D) Türk tarihini anlatır.

5.

- I. Enlemler
- II. Kıtalar ve ülkeler
- III. Meridyenler
- IV. Ekonomik faaliyetler

Coğrafi konum belirlemede yukarıdaki kriterlerin kullanıldığı konumlar hangi seçenekte doğru verilmiştir?

	<u>ÖZEL</u> <u>KONUM</u>	<u>MATEMATİK</u> <u>KONUM</u>
A)	I ve II.	III ve IV.
B)	III ve IV.	I ve II.
C)	I ve III.	II ve IV.
D)	I ve IV.	I ve III.

6. Muson bölgesinde yetişen teak adı verilen ağacın her türlü hava koşullarına, deniz suyuna, haşerelere karşı çok uzun yıllar dayanma özelliği vardır. Bu özellikleri nedeniyle yetiştirilen teak ağaçlarından özellikle gemi ve sandalye, masa vb. üretiminde faydalanılır.

Bilgiye göre Muson ikliminde;

- I. Tarım
- II. Mobilyacılık
- III. Ormancılık

ekonomik faaliyetlerinden hangilerinin geliştiği söylenebilir?

- A) I ve II.
- B) Yalnız II.
- C) II ve III.
- D) I ve III.

7. Ülkemiz fiziki ve beşerî coğrafya çeşitliliği fazla bir ülkedir.

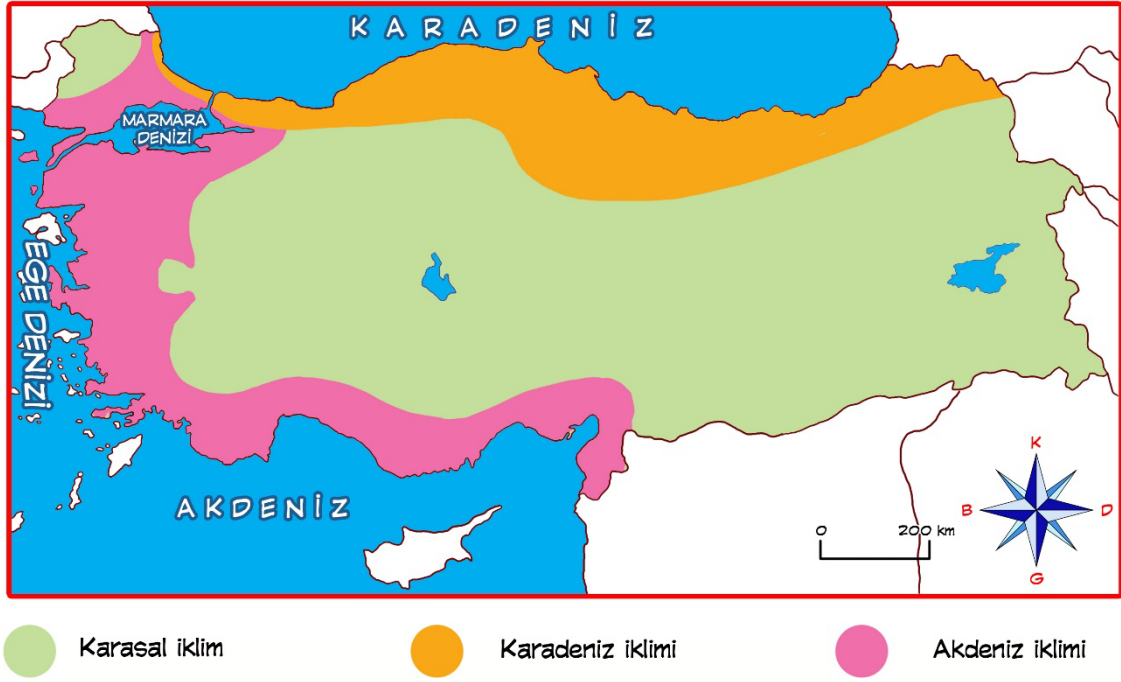
Bu durumun ülkemizde;

- I. Tarım
- II. Hayvancılık
- III. Turizm

ekonomik faaliyetlerinden hangilerinin gelişmesini sağladığı söylenebilir?

- A) I ve II.
- B) Yalnız III.
- C) I ve III.
- D) I, II ve III.

8.



Türkiye’de görülen iklimler haritası incelendiğinde hangisi söylenemez?

- A) Ülkemizin büyük çoğunluğunda karasal iklim görülmektedir.
- B) Karadeniz İklimi dar bir kıyı şeridinden görülmektedir.
- C) Akdeniz iklimi sadece Akdeniz Bölgesinde görülmektedir.
- D) Marmara Bölgesi’nde değişik iklimler görülmektedir.

9.



Kutup ikliminde yaşayan bizler; toprak devamlı donmuş halde bulunduğundan avcılık ve balıkçılık ile geçiniriz. Buzdan veya balina kemiklerinden yaptıkları igloo adı verilen kubbeli geleneksel evlerde yaşarız. Ulaşımında köpeklerin çektiği kızaklar kullanırız. Hava çok soğuk olduğundan kalın kıyafetler giyeriz

Verilen bilgidен çıkarılabilecek en kapsamlı yargı hangisidir?

- A) İnsanlar buldukları doğal ortama uyum sağlar.
- B) Kutup ikliminde çok az insan yaşar.
- C) Kutup iklimi geniş bir alanda görülür.
- D) İklim insan faaliyetlerini olumlu etkiler.

10. Ekvatorial iklimin görüldüğü yerlerde güneş yıl boyunca dik ve dike yakın açılarla gelir. Yıl boyu sıcaklık 27 C° dir. Her mevsim bol yağış alır. Buna bağlı olarak boyları 45 metreye kadar yükselen ağaçların yer aldığı yağmur ormanları geniş yer kaplar.

Bu durumun;

- I. Konut tipini
- II. Kıyafet tercihini
- III. Ekonomik faaliyetleri

hangilerini etkilemesi beklenir?

- A) I ve II.
- B) I ve III.
- C) II ve III.
- D) I, II ve III.

21 OCAK 2025 SALI	DIET DENEMESİ 02	D: Y:
------------------------------	-----------------------------	------------------

1. ... Bir milletin tüm bireylerinin bilmesi, benimsemesi, koruması ve geliştirmesi gereken kültür hazinelerinden birisidir. Zira o, bir milletin hemen hemen tüm varlığına eşittir. Milletin geçmişteki varlığı, onun mirası, bugüne kalan hatırasıdır. Etrafımıza bakınca, atalarımızdan, kalma, göz kamaştırıcı bin bir şey görürüz. O ufukları süsleyen camiler, yıkılmış olsa da sonsuz güzellikle parlayan çeşmeler, sebiller, türbeler, köprüler, müzeleri dolduran eşyalar, minyatürler hep ondan kalmıştır.
(Prof. Dr. Mehmet Kaplan)

Metinde kültürü oluşturan hangi unsura yer verilmiştir?

- A) Dil
B) Din
C) Tarih
D) Sanat

2.

AHMET BEY'İN ROLLERİ	
<i>Okulda</i>	Öğretmen
<i>Evde</i>	Eş, Baba, Komşu
<i>Markette</i>	Müşteri
<i>Sivil Toplum Kuruluşunda</i>	Gönüllü

Ahmet Bey'in tablodaki rollerine göre hangisi söylenebilir?

- A) Sosyal roller zaman içerisinde değişir.
B) Rollerin tamamı doğuştan kazanılır.
C) Rollerin tamamı uzun sürer.
D) Bir kişi birden fazla role sahip olabilir.

3.

Kuzey Almanya'nın Nordenham kentinde Türklere ait camilere yapılan İslamofobik saldırılar, düzenlenen yürüyüşle protesto edildi.

Yukarıda hangisine yönelik ön yargılara örnek verilebilir?

- A)Dine
B)Kültüre
C)Irka
D)Cinsiyet

4.

Uygur topraklarından ovidan geen bir nehrin y6n6 deęiřtirilerek kanallarla bahelere ve tarlalar sularırdı. Bu suların g6c6yle b6y6k deęirmenler iřletilirdi. Ovada her t6rl6 tahıl yetiřtirilirdi. 6rneęin, in'e kavun ve karpuz bu b6lgeden gitmiřti. inliler g6n6m6zde karpuzla hala "Hami kavunu" derler. (Bahattin 6gel, T6rk K6lt6r6n6n Geliřme aęları, S.84)

Yukarıdaki metinde Uygur-in arasında hangi alandaki etkileřime 6rnek verilmiřtir?

- A) Tarım B) Mimari
C) El sanatları D) Hayvancılık

5. Hz. Muhammed'in İřlam'ı tanıtmak istemesi karřısında Mekkeliler telařa kapıldı. 6nk6 Mekke dini 6nemi nedeniyle ok sayıda kervanın geldięi bir yerdı ve buradan ciddi bir kazanç elde ediliyordu. Mekkeliler İřlamiyet'in yayılması halinde bu kazançlarının yok olmasından korktular. Bu nedenle M6sl6manlara baskı yapmaya bařladılar. Hatta onlarla alıřveriři kestiler adeta ambargo uyguladılar.

Yařananlar 6zerine M6sl6manlar hangisini yapmıřtır?

- A) Mekke'ye hicret etmiřtir.
B) Hudeybiye Antlařmasını yapmıřlardır..
C) İřlamiyet Arap yarđım adası dıřında da yayılmıřtır.
D) Mekke fethedilmiřtir.

6.

- I. Daęların g6neye d6n6k yamaları daha sıcaktır.
II. 6 tarafı denizlerle evrilir.
III. D6rt mevsim g6r6l6r.
IV. anakkale ve İstanbul Boęazı gibi iki stratejik boęaza sahiptir.

Yukarıda verilen 6zelliklerin 6lkemizin ilgili olduęu konumu hangi seenekte doęru verilmiřtir?

	<u>6ZEL KONUM</u>	<u>MATEMATİK KONUM</u>
A)	II ve III.	I ve IV.
B)	I ve IV.	II ve III.
C)	II ve IV.	I ve III.
D)	I ve III.	II ve IV.

7.



Yukarıdaki haritadan yola çıkarak; Atlas Okyanusu'na hangi kıta komşu olduğu söylenemez?

- A) Kuzey Amerika B) Afrika
C) Okyanusya D) Avrupa

8.



Haritada numaralandırılmış yerlerin bitki örtüsü hangi seçenekte doğru verilmiştir?

	I	II	III
A)	Maki	Bozkır	Orman
B)	Maki	Orman	Bozkır
C)	Orman	Maki	Bozkır
D)	Orman	Bozkır	Maki

9.“Allah’ım! İslam’ın sancaklarını yükselt ve hayatlarını sana kulluk için esirgemeyen mücahitlerini yalnız bırakma! Ya Rabbi, Alparslan’ı düşmanlarına muzaffer kıl ve onun askerlerini meleklerin ile kuvvetlendir! Zira o senin rızanı kazanmak için varlığını, canını ve her şeyini fedadan sakınmıyor. O senin yolunda ve dininin üstünlüğü için nasıl cihad yapıyorsa sen de onu öylece kuru ve düşmanlarını kahret.” (Osman Turan, “Selçuklular Zamanı Türkler”, s.58)

Abbasi halifesinin hazırlattığı yukarıdaki dua metni Malazgirt Savaşı öncesinde İslam dünyasındaki cuma hutbelerinde okutulmuştur.

Bu durum hangisini kanıtlamaz?

- A) Selçukluların tüm İslam dünyasını temsil ettiğini
- B) Selçukluların İslam dünyasında saygınlığı olduğunu
- C) Selçukluların İslam dünyasını koruduğunu
- D) Selçukluların geniş coğrafyalara yayıldığını

10.



Akdeniz ikliminde yaşayan insanlar evlerinde yapı malzemesi olarak taş kullanmış ve çatı yerine damı tercih etmişlerdir. Evleri genellikle açık renklere boyamışlardır.

Bu durumların temel nedeni için hangisi söylenebilir?

- A) Sıcaklığın etkisini azaltmak
- B) Ekonomik faaliyetleri şekillendirmek
- C) Turizmin önem kazanmasını sağlamak
- D) Nüfusun artmasını sağlamak

22 OCAK 2025
ÇARŞAMBA

DİET DENEMESİ
03

D:
Y:

1.Emre okulda yaşadığı bir sorunu hak, sorumluluk ve özgürlük çerçevesinde çözmek istemektedir.

Buna göre Emre aşağıda davranışlardan hangisini sergilememelidir?

- A) Sorunun nedenini araştırmalıdır.
- B) Bulduğu sorununun sonuçlarını düşünmelidir.
- C) Sorunu sadece kendine göre çözmelidir.
- D) Başkalarının görüşlerini de dinlemelidir.

2. Hz. Ali döneminde iç karışıkların yaşanmasıyla;

- I- Fetihlerin durması
- II-Toplumsal huzurun bozulması
- III-Türklerin Müslüman olması

hangileri arasında bağlantı vardır?

- A)Yalnız I
- B)I, II ve III
- C)Yalnız II
- D) I ve II

3.



Ben Büyük Selçuklu Devleti'ne adını veren Selçuk Bey'in torunlarından Süleyman Şah'ım. Malazgirt Zaferi'nin ardından Anadolu'nun fethiyle görevlendirildim. İç karışıklar yaşayan Bizans'ın zayıflığından yararlanarak İznik'e kadar ilerledim ve burayı başkent yaparak Türkiye Selçuklu Devleti'ni 1075'te kurdum.

Süleyman Şah'ın anlatımından Türkiye Selçuklu Devleti ile ilgili hangi bilgiye ulaşamaz?

- A) Kurulduğu yer
- B) Siyasi faaliyetleri
- C) Kurulduğu tarih
- D) Kurucusu

4.



Yukarıdaki haritada numaralandırılmış yerlerden hangisinin coğrafi özellikleri beşeri faaliyetlere en az uygundur?

- A) IV. B) III. C) II. D) I.

5. Hun Devleti ile Çin arasında mücadeleler uzun yıllar sürmüştür. Çin, Türkleri yenemeyeceğini anlayınca Hun yöneticilerini birbirine düşürmüş böylece ülkeyi parçalayarak hedefine ulaşmıştır.

Buna göre Çin'in Türkleri hangi alanda zayıf düşürdüğü söylenebilir?

- A) Askeri B) Ekonomik
C) Dini D) Siyasi

6. Türkiye Selçuklu Devleti tarafından tüccarların faydalanması için 9 saatlik yürüme mesafesine kervansaraylar inşa edilmiştir. Kervansaraylardan dil, din, ırk ayrımı olmadan tüm tüccarlar üç gün süre ile faydalanmıştır. Yüksek duvarlarla çevrili bu yapılarda hamam, han, mescit, kütüphane, hekim, eczane vb. pek çok hizmet verilmiş ayrıca kervanların güvenliği için askeri birlikler de yer almıştır. Kervansarayların bulunduğu yerler zamanla bir ticaret merkezi olmuştur.

Buna göre kervansarayların yapılma amaçları arasında;

- I. Vergi gelirlerini artırmak
II. Tüccarları teşvik etmek
III. Diplomatik ilişkileri geliştirmek

hangileri sayılabilir?

- A)Yalnız I. B)Yalnız II.
C)I ve II. D)I, II ve III.

7. Hendek Savaşı öncesi Hz. Peygamber Müslümanları toplayarak nasıl bir savaş yapılması gerektiği konusunda onların görüşlerini almıştır. Sonuçta Selman-ı Farisi'nin önerisi üzerine şehrin etrafında bir Hendek kazılarak savunma savaşı yapılmasına karar verilmiştir.

Yukarıdaki paragraftan çıkarılabilecek en kapsamlı yargı hangisidir?

- A) Hz. Peygamberin insanların görüşlerine değer vermiştir.
- B) Hz. Peygamber eğitime önem vermiştir.
- C) Hz. Peygamber İslamiyet'i yaymıştır.
- D) Hz. Peygamber büyük zorluklarla karşılaşmıştır.

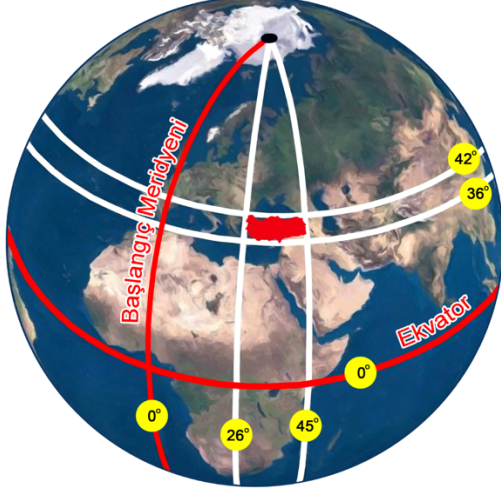
8.

- I. Çevresine göre yüksek ve belli bir doruğu olan yer yüzü şeklidir.
- II. Çevresine göre yüksekte kalmış ve akarsular tarafından derin olarak yarılmış geniş düzlüklendir.
- III. Deniz sularının karaların içine doğru sokulduğu bölümdür.

Yukarıda tanımları verilen yer yüzü şekilleri hangi seçenekte doğru verilmiştir?

	I	II	III
A)	Plato	Ova	Körfez
B)	Plato	Körfez	Ada
C)	Dağ	Ova	Ada
D)	Dağ	Plato	Körfez

9.

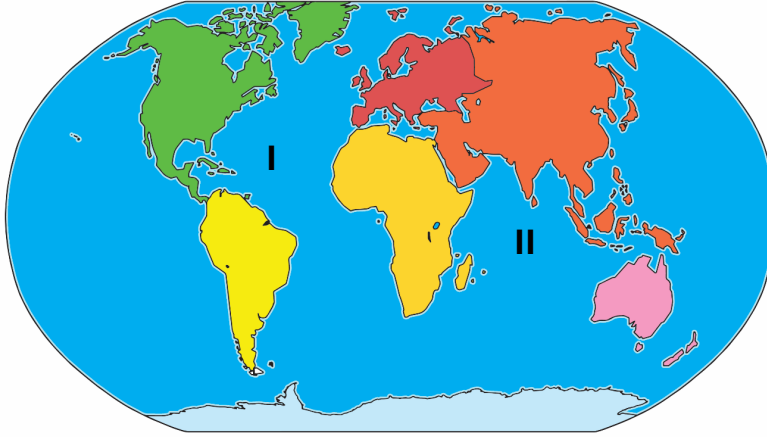


Görsele göre aşağıdakilerden hangisi Türkiye'nin matematik konumunu belirtirken kullanılamaz?

- A) 26° doğu meridyeni
C) 36° kuzey paraleli

- B) 45° doğu meridyeni
D) 45° kuzey paraleli

10.



Haritada numaralandırılmış yerdeki okyanuslar hangi seçenekte doğru verilmiştir?

	I	II
A)	Büyük Okyanus	Atlas Okyanusu
B)	Büyük Okyanus	Hint Okyanusu
C)	Atlas Okyanusu	Hint Okyanusu
D)	Atlas Okyanusu	Büyük Okyanus

23 OCAK 2025
PERŞEMBE

DİET DENEMESİ
04

D:
Y:

1.



Fazla yolcu alan dolmuşları belediyeye bildirerek önlem alınmasını istedim.

Emrah Bey



Çöplerini çöp kutusu yerine sokağa bırakan marketi ilgili birimlere ilettim.

Sibel Hanım



Kapalı mekânda sigara içen kişileri telefonla şikâyet ettim.

Müzeyyen Hanım



Arabamla giderken gördüğüm bir sorunu görmemezlikten gelerek yoluma devam ettim.

Hicabi Bey

Yukarıda verilen vatandaşlardan hangisi sorunu hak, sorumluluk ve özgürlükler çerçevesinde çözmemiştir?

- A) Hicabi Bey B) Müzeyyen Hanım
C) Emrah Bey D) Sibel Hanım

2.

|



Diyagramdaki durum - neden ilişkisinden yukarıdaki sonuçların hangisi çıkarılamaz?

- A) II B) III C) IV D) I

3.



2005 yılında Orta Asya'da yapılan kazılarda bulunan Kök Türklerden kalma para Hakan ile birlikte Hatun'a yer verilmesi aşağıdakilerden hangisini gösterir?

- A) Kadına değer verildiğini
B) Kadınların da yönetici olduğunu
C) Sosyal sınıf farkları olduğunu
D) Yerleşik yaşama geçildiğini

Özdamarlar

4.

Oğuz emir verdi ülkesine, halk koştı yanına. Oğuz kırk masa ile kırk sıra dizdirmişti. Halk oturdu sofraya. Tatlılar yenildi kıımızlar içildi. Oğuz Kağan buyurdu: "Artık size Kağan oldum. Elinizden ok ve yay düşmesin. Yukarıda gök ilimizin çadırı olsun. Dünya devletimiz, halkımız da çok olsun."
(Oğuz Kağan Destanından)

Oğuz Kağan Destanı'ndan alınan yukarıdaki bölümden hangisi çıkarılabilir?

- A) Devletin nasıl kurulduğu
- B) Çin ile hangi mücadeleler yapıldığı
- C) Halkın askeri yeteneği
- D) Nasıl ticaret yapıldığı

5.



Mengücekliler zamanında inşa edilen bu yapı taş işlemleri ile ünlüdür ve UNESCO'nun (Unesko) korunması gereken dünya mirası listesine alınmıştır.

Bilgi verilen eser aşağıdakilerden hangisidir?

- A) Divriği Ulu Camii ve Darüüşşifası
- B) Bursa Ulu Camii
- C) Kayseri Gevher Nesibe Şifahanesi
- D) Niksar Ulu Camii

6.

I-Maki

II-Orman

III-Bozkır

Yukarıda verilen bitki örtülerinin ilgili olduğu iklimler hangi seçenekte doğru eşleştirilmiştir?

	MAKİ	ORMAN	BOZKIR
A)	Karadeniz	Akdeniz	Karasal
B)	Karasal	Akdeniz	Karadeniz
C)	Akdeniz	Karadeniz	Karasal
D)	Akdeniz	Karasal	Karadeniz

7.



Haritada görüldüğü gibi ülkemizde Karadeniz ve Akdeniz'de dağlar doğu-batı yönünde; Ege'de ise denize dik olarak uzanır.

Bu durumun;

- I. İklim
- II. Ulaşım
- III. Bitki örtüsü

hangilerini etkilemesi beklenir?

- | | |
|------------------|---------------|
| A) I ve II. | B) Yalnız I. |
| C) I, II ve III. | D) II ve III. |

8.

Devre arasının gözdesi yine Antalya oldu.
2019 yılı devre arasında yerli ve yabancı 2000 futbol takımı kamp dönemini Antalya'da geçirdi.

Yukarıdaki haberde Antalya'nın hangi doğal/beşeri özelliğinin etkili olduğu söylenebilir?

- A) İklim
B) Turizm
C) Ulaşım
D) Nüfus

9.



Görselden yararlanarak ülkemizin göreceli (özel) konumu için hangisi söylenemez?

- A) Üç tarafı denizlerle çevrilidir.
B) Asya ve Avrupa kıtalarının birbirine en çok yaklaştığı yerdedir
C) İki önemli boğaza sahiptir.
D) Güneyden kuzeye gidildikçe sıcaklık düşer.

10.



Ben Ekvatorial iklim bölgesinde yaşıyorum. Ülkeme yıl boyunca güneş ışınları dik ve diki yakın gelir. Yağış çoktur. Yağmur ormanları geniş yer kaplar. Ahşap evlerde yaşarız. Tarım, hayvancılık ve orman ürünleri satarak geçimizi sağlarız. Hava sıcak olduğu için ve sık ağaçlar güneşi engellediği için kıyafet ihtiyacımız azdır.

Yukarıdaki açıklamadan Ekvatorial iklimin hangi özelliği hakkında çıkarımda bulunulamaz?

A) Ekonomik faaliyetler
C) Kıyafet tercihleri

B) Konut tipi
D) Yetiştirilen ürünler

Metin Özdamarlar

24 OCAK 2025 CUMA	DIET DENEMESİ 05	D: Y:
-------------------	---------------------	----------

1.

- Hastaları ve komşularımızı ziyaret etmek
- Bayramlarda büyükleri ziyaret etmek

Yukarıdaki gelenek ve görenekleri yaşatmanın sonuçları arasında;

- I. Toplumsal ilişkilerin kolaylaşması
- II. Toplumsal ayrışmanın artması
- III. Toplumsal birlikteliğin sağlanması

hangileri sayılabilir?

A) I ve II.	B) II ve III.
C) I ve III.	D) I, II ve III.

2.

Türk Hava Yolları'nın kadın pilotlarından Kolombiyalı Alejandra Maria Gomez Rozo "Meslek hayatımın ilk günlerinde birçok ön yargı ile karşılaştım ve halen karşılaşmaya devam ediyorum. Kimse pilot olduğuma inanmıyor. 'Sen pilot musun, çok küçüksün? Nasıl pilotluk yapıyorsun, saatlerce uçmak için çok güçlü olman gerekmiyor mu?' gibi sorularla çoğu kez karşılaşıyorum." dedi.

Yukarıdaki gazete haberi hangisine yönelik ön yargılara örnek verilebilir?

- A) Cinsiyete
- B) Fiziksel özelliklere
- C) Sosyoekonomik düzeye
- D) Kültüre

3. "Leyla'dan Sonra" Türkiye'nin birçok yerindeki tıp fakültelerini aktif olarak ziyaret eden, kronik hastalıklı çocuklarla kaliteli vakit geçiren ve dileklerinin gerçekleşmesine aracı olmaya çalışan tıp öğrencilerinden oluşan bir ekiptir.

Verilen bilgiye göre "Leyla'dan Sonra" ekibinin faaliyetlerinin hangisine katkı sağlaması beklenemez?

- A) Toplumsal birlikteliğe
- B) Ön yargıların oluşmasına
- C) Sosyal yardımlaşma ve dayanışmaya
- D) Sorumluluk almaya

4.

- Sorunların çözüme kavuşması için kullanabileceğimiz demokratik haklarımızdan birisidir.
- Yapmamız gereken talep, görüş, öneri ve şikayetlerimizi doğru şekilde ifade etmek, kimlik bilgilerimizi vermektir.
- Konuyla ilgili birim bize 30 gün içinde cevap verecektir.

Yukarıda hangi hakkımızla ilgili bilgiler verilmiştir?

- A) Eğitim
B) Dilekçe
C) Yaşama
D) Bilgi Edinme

5. İlk Türk devletlerinde toplum ve devlet, --- adı verilen yazılı olmayan kurallara göre yönetilmişti. Toplum hayatını --- düzenlemekteydi. Bu kurallara aynı zamanda devletin devamlılığı için de önemli idi.

Yukarıdaki boşluklara hangisi yazılmalıdır?

- A) toy
B) yuğ
C) kurgan
D) töre

6. Hz. Muhammed'e peygamberlik geldikten sonra ona ilk inananlar Hz. Hatice, Hz. Ebubekir, Hz. Ali ve Hz. Zeyd oldu.

Hz. Peygamberin sohbetine katılıp ona inanan sahâbe adı verilen kişilerin Müslüman olmalarında yeni dinin;

- I. Zulme,
II. Adaletsizliğe
III. Haksızlığa

hangilerine karşı durmasının etkili olduğu savunulabilir?

- A) Yalnız I.
B) Yalnız II.
C) I, II ve III.
D) II ve III.

7.

Köktürklerin vardıkları yerde akarsular, kaynaklar, türlü bitkiler, meyveler, ağaçlar ve avlar vardı. Böyle bir yeri görünce, ulu Tanrı'ya şükrettiler. Hayvanlarının kışın etini yediler; yazın sütünü içtiler. Derisini giydiler. Bu ülkeye "Ergenekon" adını koydular. Dört yüzyıl sonra kendileri ve sürüleri o kadar çoğaldı ki, Ergenekon'a sığışamaz oldular. Buna bir çare bulmak için kurultay topladılar. Bir demirci dedi ki, "Bu dağda bir demir madeni var. Şunun demirini eritsek, belki dağ bize geçit verir". Köktürkler, varıp demircinin gösterdiği dağ parçasını gördüler. Demircinin tedbirini de beğendiler. Dağın geniş yerine bir kat odun, bir kat kömür dizdiler. Dağın üstünü altını, yanını, yönünü böylece odun ve kömürle doldurduktan sonra, yetmiş deriden büyük körükler yapıp yetmiş yere koydular. Odun-kömürü ateşleyip körüklemeye başladılar, Tanrı'nın gücü ve inayeti ile ateş, kızdıktan sonra demir dağ eridi, akıverdi. Bir yüklü deve çıkacak kadar yol oldu.

Ergenekon Destanı'ndan alınan yukarıdaki alıntıdan Kök Türkler ile ilgili hangi çıkarımdan bulunulamaz?

- A) Hayvancılık ile uğraşmaktadırlar.
- B) Uygurlar tarafından yıkılmışlardır.
- C) Demir madeni işlenmektedir.
- D) Sorunlara kurultayda çözüm bulunmaktadır.

8.Erzincan'da Saltuklu hükümdarlarından Mama Hatun tarafından yaptırılan külliye yer almaktadır. Külliye içinde kervansaray, hamam, mescit ve türbe bulunmaktadır.

Buna göre külliyenin;

- I- Ticaret
- II- İbadet
- III- Temizlik
- IV- Eğitim

amaçlarından hangisine yönelik olduğu söylenebilir?

- A) Yalnız I
- B) Yalnız III
- C) I, II ve III
- D) III ve IV

9.



Yukarıdaki haritada, Ankara'dan hangi yönde ilerleyen birisi iklim ve bitki örtüsünün değiştiğini gözleyemez?

- A) Batı
C) Kuzey

- B) Doğu
D) Güney

10.



Benim yaşadığım yerde yazın okyanustan gelen rüzgarlar yoğun yağışa neden olur. Kışın ise kuraklık yaşanır. Su geçirmeyen yağmurluklar kullanır, ahşap evlerde yaşarız. Yağışın bol olmasına bağlı olarak pirinç üretimi yaparız.

Verdiği bilgiye göre yukarıdaki kişinin hangi iklim bölgesinde yaşadığı söylenebilir?

- A) Akdeniz iklimi
C) Ekvatorial iklim

- B) Kutup iklimi
D) Muson iklimi

27 OCAK 2025 PAZARTESİ	DİET DENEMESİ 06	D: Y:
-----------------------------------	-----------------------------	------------------

1.Kars sınırları içinde yer alan Ani Kalesi Alp Arslan tarafından fethedilmiştir. Alparslan Ani'ye bir mescit inşa ettirmiş burada yaşayan Hıristiyanlara da dinlerini yaşama özgürlüğü vermiştir.

Alp Arslan'ın Hıristiyanlara dinlerini yaşama özgürlüğünü tanınması Anadolu'nun fethine nasıl katkıda bulunmuş olabilir?

- A) Anadolu'nun Bizans egemenliğine girmesine neden olmuştur.
- B) Anadolu'nun kısa sürede fethedilmesini sağlamıştır.
- C) Anadolu'da Bizans-Türk savaşlarının sona ermesini sağlamıştır.
- D) Anadolu'da siyasi birliğin sağlanmasını zorlaştırmıştır.

2.

DÖRT HALİFE DÖNEMİ	EMEVİLER DÖNEMİ
<ul style="list-style-type: none">• Halifeler bir çeşit seçim yoluyla belirlendi.• Devlete ait merkez binası yoktu.• Bütün Müslümanlar eşit kabul edilmişti.• Devlete ait resmî dil ve resmi para yoktu.	<ul style="list-style-type: none">• Babadan oğula geçen saltanat modeli uygulandı.• Arap milliyetçiliği politikası izlendi.• Devlete ait merkez binaları inşa edildi.• Arapça resmî dil hâline getirildi, ilk İslam parası bastırıldı.

Tabloya göre Emeviler dönemi için hangisi söylenemez?

- A) Yönetim biçiminde değişiklik yaşandığı
- B) İslamiyet'e girişlerin hızlandığı
- C) Milliyetçi bir politika izlendiği
- D) Devletin kurumsallaşmasına çalışıldığı

3.



“?” olan yere hangi savaşın adı yazılmalıdır?

- A) Talas Savaşı B) Dandanakan Savaşı
C) Malazgirt Savaşı D) Pasinler Savaşı

4.



Ben Yusuf Has Hâcîp. Bu eserimi 18 ayda tamamladım ve 1070 yılında Karahanlı Hükümdarı Uluğ Kara Buğra Han'a sundum. Bu eserimi okuyan hükümdar bana "Has Hâcîp" unvanını verdi. Eserimde dünya ve ahiret mutluluğu için nasıl bir yaşam sürdürülmesi gerektiğini anlattım. Ayrıca kitabımda devlet idaresi ile ilgili bilgiler de verdim.

Yukarıda bilgi verilen eser aşağıdakilerden hangisidir?

- A) Kutadgu Bilig B) Dîvânü lugâti't-Türk
C) Atabetü'l Hakâyık D) Divân-ı Hikmet

5. Türkler İslamiyet'i kabul ettikten sonra İslamiyet öncesi sahip oldukları kültür ve geleneklerini büyük oranda korumuşlardır. Türkler saldırılara karşı İslam dinini korumuşlardır. Kurdukları devletlerle İslamiyet'i yaymışlardır. Eğitimde de İslam dinini öğretecek çok sayıda okul açmış ve bilginler yetiştirmişlerdir.

Yukarıdaki cevap hangi soru için verilmiş olabilir?

- A) Türk İslam Devletleri hangileridir?
B) Türkler hangi dönemde Müslüman olmuştur?
C) Türklerin İslam dünyasına hizmetleri nelerdir?
D) Türkler'in İslamiyet'i benimsemesini kolaylaştıran nedenler nelerdi

6.



Türkiye’de dağlar haritada olduğu gibi kuzey güney doğrultusunda uzansaydı;

- I. Karadeniz
- II. Akdeniz
- III. Karasal

İklimlerinden hangisinin görüldüğü alanın daralacağı savunulabilirdi?

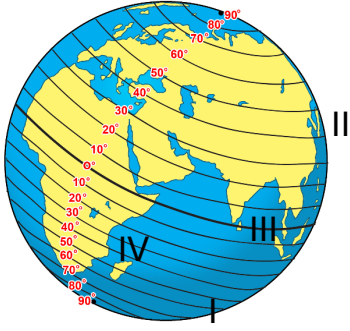
- | | |
|---------------|----------------|
| A) I ve II. | B) I ve III. |
| C) II ve III. | D) Yalnız III. |

7. Doğu’dan gelen Moğollardan kaçan bir çok kişi Anadolu’ya sığınmıştı. Bunlar arasında şeyh ve dervişler de vardı. Bunlardan birisi olan Ahi Evran-ı Veli’nin öncülüğünde Ahilik teşkilatı kurulmuştur. Kendilerine Arapça “kardeş” anlamında “Ahi” adını veren bu teşkilata Türkler arasında yardımseverlik ve cesurluklarından dolayı “cömert”, “yiğit”, “kahraman” gibi isimler verilmiştir. Ahilikte yamak, çırak, kalfa ve usta sıralaması ile fırıncı, marangoz, demirci vb. ustalar yetiştirilmiştir. Ahilik, yarı göçebe Türkmenleri yerleşik hayata geçirmekte de önemli rol oynamıştır. Ahiler kazançlarının bir kısmını fakirlere ve işsizlere yardım olarak vermişlerdir. Gerektiğinde ülke savunmasına katılmışlardır.

Paragrafa göre ahilik için hangisi söylenemez?

- A) Meslek eğitimi verdiği
- B) Anadolu’da Türk varlığını güçlendirdiği
- C) Çoğunlukla askeri bir teşkilat olduğu
- D) Birlik ve beraberliğe katkı sağladığı,

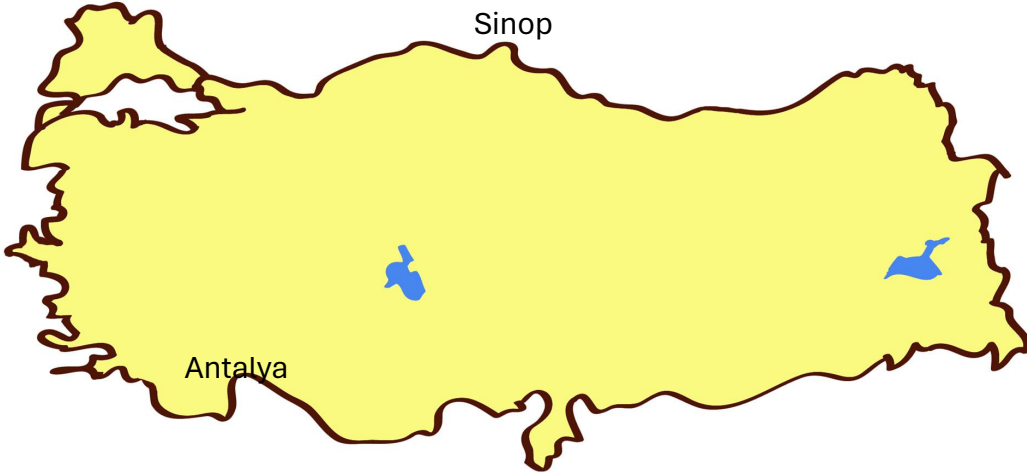
8.



Yukarıda numaralandırılmış yerlerden hangisi en uzun paralel dairesini göstermektedir?

- A) I. B) II.
C) III. D) IV.

9.



Türkiye Selçuklu Devleti'nin yukarıdaki şehirleri fethederken öncelikle hangisini amaçladığı söylenebilir?

- A) Deniz ticaretini geliştirmek
B) Kıyıların güvenliğini sağlamak
C) Anadolu'nun siyasi birliğini sağlamak
D) Haçlılarda mücadele etmek

10. Aşağıda verilen tanımlardan hangisi yanlıştır?

A)	Kurgan: Türklerin eşyaları ile birlikte gömüldüğü mezarlık.
B)	Kurultay: Devlet işlerinin görüşülüp karara bağlandığı meclise verilen addır.
C)	Gök Tanrı: İlk Türk devletlerinin dini inancıdır.
D)	Boy: İlk Türk devletlerinde hükümdarlara verilen unvandır.

28 OCAK 2025
SALI

DİET DENEMESİ
07

D:
Y:

1. İslam dininin yayılışını gösteren harita şöyledir:



Hangi dönemde İslam Devleti toprakları Arabistan yarımadası dışında da yayılmaya başlamıştır?

- A) Hz. Muhammed
B) Emeviler
C) Dört Halife
D) Abbasiler

2. Uygurlar, yerleşik hayata geçtiği bilinen ilk Türk devletidir. Bu durum Uygurların kültür ve uygarlık tarihinde Büyük Hun ve Kök Türk devletlerinden farklı özellikler göstermesini sağlamıştır.

Bu farklı özellikler arasında;

- I. Din
II. Ekonomik faaliyetler
III. Sanat
IV. Madencilik

hangileri sayılamaz?

- A) II ve III.
B) I ve III.
C) I, II ve III.
D) Yalnız IV.

3.

Malazgirt Savaşı'nın ardından;

- I. Anadolu'nun kapısı Türklere açılmış
- II. Anadolu'da İslamiyet yayılmaya başlamış
- IV. Anadolu'da ilk Türk devletleri kurulmuştur.
- V.

Buna göre Malazgirt Savaşı'nın;

- I. Siyasi
- II. Dini
- III. Kültürel
- IV. Askeri

hangi sonuçları sağladığı savunulabilir?

- A) I, II ve III.
- B) I ve IV.
- C) III ve IV.
- D) I, II ve IV.

4.



Türk Futbol Milli Takımı özel bir maç yapmak üzere uçakla haritadaki rotada yola çıkmıştır.

Uçağın üzerinden geçtiği okyanus ve gittiği kıtanın isimleri hangi seçenekte doğru verilmiştir?

	<u>ÜZERİNDEN GEÇTİĞİ OKYANUS</u>	<u>GİTTİĞİ KITA</u>
A)	Hint	Avrupa
B)	Atlas	Kuzey Amerika
C)	Büyük	Afrika
D)	Hint	Okyanusya

5.



Ülkemizin Karadeniz ve Akdeniz kıyıları düzgün bir yapıya sahipken Ege kıyısında girinti çıkıntılar oldukça fazladır.

Bu durumun temel nedeni aşağıdakilerden hangisidir?

- A) Dağların uzanış yönü
- B) İklim
- C) Bitki örtüsü
- D) Nem

6. 622 yılında Mekke'den Medine'ye göç eden Müslümanlara --- Hz. Muhammed ve göç eden Müslümanları barındırarak onlara büyük yardımlarda bulunan Medinelî Müslümanlara da ---- denilmiştir.

Yukarıdaki boşluklara sırası ile hangisi yazılmalıdır?

- A) Ensar-Muhacir
- B) Muhacir-Ensar
- C) Sahabe-Ensar
- D) Muhacir-Sahabe

7.Hz. Peygamber, İslam Devleti'ni aşağıda verilen şehirlerden hangisinde kurmuştur?

- A) Şam
- B) Mekke
- C) Bağdat
- D) Medine

8. "II. Haçlı Seferi'nden sonra "Türkler artık acınacak durumda bulunan bu aç, hasta, fakir insanlara karşı savaştan vazgeçip merhamete geldiler. Aç ve fakirlere yemek verdiler; hastalarını tedavi ettiler ve kendilerine para dağıttılar. Böylece dindaşları Rumların zulmünden kaçıp Müslümanlardan himaye ve merhamet arayan üç binden fazla gencin Türklerin tarafına geçtiği söyleniyor. Bu durum üzerine Papaz Odon "Türkler onları Müslüman yapmak için bir zorlamada bulunmadılar." demiştir. (Osman Turan, Selçuklular Zamanında Türkiye, s.211)

Metne göre hangisi söylenebilir?

- A) Türklerin cesur savaşçı olduğu
- B) Türklerin merhametli bir millet olduğu
- C) Türklerin bayındırlığa önem verdiği
- D) Türklerin dünya bilimine katkı sağladığı

9.

I. Haçlı Seferi	Haçlılar İznik, Kudüs, Urfa gibi kutsal saydıkları kentleri ele geçirmişlerdir. Türkiye Selçuklu Devleti İznik'i kaybedince başkentini Konya'ya taşımıştır.
II. Haçlı Seferi	Urfa'nın Haçlılardan geri alınması üzerine düzenlenen sefer başarısız olmuştur.
III. Haçlı Seferi	Eyyubi Devleti Sultanı Selahattin Eyyubi'nin Kudüs'ü Haçlılardan geri alması üzerine düzenlenen sefer başarıya ulaşamamıştır.
IV. Haçlı Seferi	Selahattin Eyyubi'nin ölmesi üzerine taht kavgalarından yararlanarak Kudüs'ü almak isteyen Haçlılar yön değiştirerek Bizans'ın başkenti İstanbul'u işgal etmişlerdir.

Tablodan hangi çıkarımda bulunulamaz?

- A) IV.Haçlı Seferi amacından sapmıştır.
- B) Seferler sadece dini amaçlarla düzenlenmiştir.
- C) Haçlılar sadece I. seferde başarılı olmuştur.
- D) Seferler Türkiye Selçuklu Devleti'ni olumsuz etkilemiştir.

10.Aşağıdaki savaşlardan hangisinden sonra Türkiye Selçuklu yıkılma sürecine girmiştir?

- A)Malazgirt
- B)Katvan
- C)Kösedağ
- D)Miryokefalon

29 OCAK 2025
ÇARŞAMBA

DİET DENEMESİ
08

D:
Y:

1."Kan Ver Hayatı Paylaş ve Bir Damla Kan Bir Can" sloganları ile yola çıkan Baruthane Ortaokulu, sosyal sorumluluk projesi kapsamında Kızılay'a kan bağışında bulunmak ve kan bağışı konusunda farkındalık oluşturmak için kan bağışçıları buldu. Ailelerini, yakınlarını, tanıdık tanımadıkları kişileri de kan bağışına ikna eden öğrenciler, büyük bir kan bağışına imza attı. Türk Kızılayı Samsun Kan Bağış Merkezi ve üniversiteli Kızılay gönüllülerinin katkısı desteği ile sabah okul bahçesinde başlayan kan verme etkinliği akşam saatlerinde sona erdi. Gün sonunda toplanan 770 ünite kanla yeni bir rekor kırıldı.

Yukarıdaki haberde toplumsal birlikteliğin oluşmasında hangisini destekleyici faaliyetlere yer verilmiştir?

- A) Ekonomik faaliyetleri
- B) Yardımlaşma ve dayanışmayı
- C) Vatandaşlık haklarını
- D) Çocuk hak ve özgürlüklerini

2.

- I- Bilinen ilk Türk devletidir.
- II- "Türk" adını kullanan ilk Türk devletidir.
- III- Yerleşik yaşama geçen ilk Türk devletidir.

Yukarıda bilgi verilen devletler hangi seçenekte doğru eşleştirilmiştir?

	<u>I</u>	<u>II</u>	<u>III</u>
A)	Asya Hun	Uygur	Kök Türk
B)	Uygur	Asya Hun	Kök Türk
C)	Asya Hun	Kök Türk	Uygur
D)	Uygur	Kök Türk	Asya Hun

3.Abbasiler döneminde eşit ve adil bir politika izlenmiştir.

Bu politikanın;

- I. Birlik ve beraberliğin kuvvetlenmesi
- II. İslamiyet'e girişlerin hızlanması
- III. Türklerin Abbasi ordu ve yönetiminde görev alması

hangilerini sağlaması beklenir?

- A) Yalnız I.
- B) I ve II.
- C) II ve III.
- D) I, II ve III.

4. Büyük Selçuklu Devleti döneminde farklı kentlerde Nizamiye Medreseleri kurulmuştur. Bu kurumlarda öğrencilere burs verilerek, her türlü ihtiyaçları karşılanarak yükseköğretim verilmiştir.

Bu uygulamanın amacı için hangisi söylenemez?

- A) Devlete nitelikli eleman yetiştirmek
- B) Kültür hayatını zenginleştirmek
- C) Sosyal devlet ilkesini hayata geçirmek
- D) Ordunun asker ihtiyacını karşılamak

5.

	Ocak ayı sıcaklık ortalaması (1927-2017 arası)	Temmuz ayı sıcaklık ortalaması (1927-2017 arası)
Sivas	-3,5 C°	20 C°
Trabzon	7,3 C°	23,1 C°
Adana	9,5 C°	28,2 C°
Kars	-10,4 C°	17,6 C°

Yukarıda verilen şehirlerimizden hangisinin yıllık sıcaklık farkı daha fazladır?

- A) Trabzon
- B) Sivas
- C) Kars
- D) Adana

6.

Savaş	Yılı	Sonuç	Önemi
Malazgirt	1071	Zafer	Anadolu'nun kapısı Türklere açılmıştır.
Pasinler	1048	Zafer	Anadolu'nun fethi için ortam hazırlanmıştır.
Miryokefelon	1176	Zafer	Anadolu'nun kesin olarak Türk yurdu olduğunu ispatlanmıştır.

Yukarıdaki Türk tarihi savaşları tablosundan aşağıdaki sorulardan hangisine cevap verilemez?

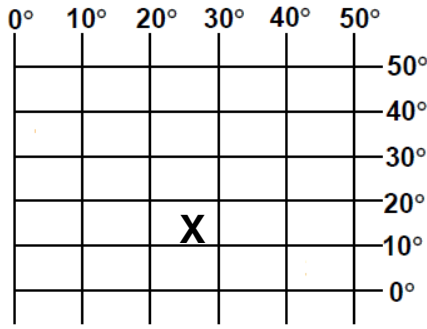
- A) Zaferle sonuçlanan savaşlar hangileridir?
- B) Miryokefalon Savaşı kaç yılında olmuştur?
- C) Pasinler Savaşı'nın sonucu ne olmuştur?
- D) Malazgirt Savaşı'nda hangi devletler savaşmıştır?

7. 13. yüzyılda Anadolu'dan geçen ünlü gezgin Marco Polo, Anadolu'dan "Türkiye" diyerek bahsetmiştir. Dönemin bir diğer önemli Arap seyyahı İbn Batûta, 1330'lu yıllarda gezdiği Anadolu'da yoğun Türk nüfusunu gördükten sonra Anadolu için Türkiye ülkesi, Türkiye toprağı anlamında "Berrû't-Türkiyye el-Ma'rûf bi Bilâdi'r-Rûm" ifadelerini kullanmıştır. Dönemin diğer yazar ve tarihçileri de; Türkiye Devleti (ed-Devletü't- Türkiye) ifadesini kullanırken Anadolu'yu, Türk ülkesi olarak isimlendirmiştir.

Yukarıda verilen bilgiden hangisi çıkarılabilir?

- A) Anadolu'nun Türk yurdu haline getirildiği
- B) Anadolu'da Bizans varlığının sürdüğü
- C) Türklerin İslamiyet'i koruculuğunu üstlendiği
- D) Anadolu'da farklı milletlere rastlandığı

8.



Yukarıda "X" ile verilen noktanın koordinatları hangi seçenekte doğru verilmiştir?

A)	20-30 Doğu Meridyenleri /20-30 Kuzey Enlemleri
B)	10-20 Doğu Meridyenleri/20-30 Kuzey Enlemleri
C)	20-30 Doğu Meridyenleri/10-20 Kuzey Enlemleri
D)	30-40 Doğu Meridyenleri/20-30 Kuzey Enlemleri

9. Türkiye bitki örtüsünü gösteren harita şöyledir:

TÜRKİYE BİTKİ ÖRTÜSÜ HARİTASI



Buna göre, orman varlığının en az olduğu bölgemiz hangisidir?

- A) Marmara
B) İç Anadolu
C) Akdeniz
D) Güneydoğu Anadolu

10. Muson iklimi bölgesinde yazın okyanus üzerinden esen rüzgarlar bölgede aşırı yağışlara neden olmaktadır.

Bu durumun bölgede hangi doğal felakete neden olması beklenir?

- A) Orman yangını
B) Sel
C) Deprem
D) Çığ

30 OCAK 2025 PERŞEMBE	DİET DENEMESİ 09	D: Y:
--------------------------	---------------------	----------

1. Özgürlük hiç kimse için başına buyruk olmak demek değildir. Sevdiklerimizle uyum içerisinde olabilmek, sorumluluk alabilmek, gerektiğinde bir başkasını mutlu edebilmek, aslında size gerçek mutluluğun anahtarını verecek olan şeydir. Çünkü bencilce yaşanan bir hayat kimseye keyif vermez.

Buna göre özgürlüğün sınırı aşağıdakilerden hangisidir?

- A) Başkalarının özgürlüğünü önemsemeden dilediğimizi yapabilmek
- B) Sadece kendi özgürlüğümüzü önemsemek
- C) Başka insanların özgürlüklerini dikkate almamak
- D) Başkalarının özgürlük alana müdahale etmeden dilediğimizi yapabilmek

2. Bursa Orhangazi'de yaşayan Muammer Kavazoğlu, "Atma! Tamir Olsun, Çocuklara Umut Olsun" adını verdiği projesiyle oyuncakların geri dönüşümünü sağlıyor. Kiraladığı dükkânda ülkenin birçok yerinden kargoyla gönderilen eski oyuncakları tamir ediyor. Kavazoğlu'nun annesi Şükriye Kavazoğlu da pelüş ve oyuncak bebekleri onarıyor. Toplanan oyuncaklar tamir edilip ihtiyaç sahibi çocuklara hediye ediliyor.

Yukarıda hangi alandaki dayanışmaya örnek verilebilir?

- A) Ekonomik
- B) Kültürel
- C) Toplumsal
- D) Dini

3. Türkiye'de XIII. yüzyılda yaşanan Moğol işgallerinin olumsuz sonuçları olduğu gibi olumlu sonuçları da olmuştur.

Aşağıdakilerden hangisi bunlardan birisidir?

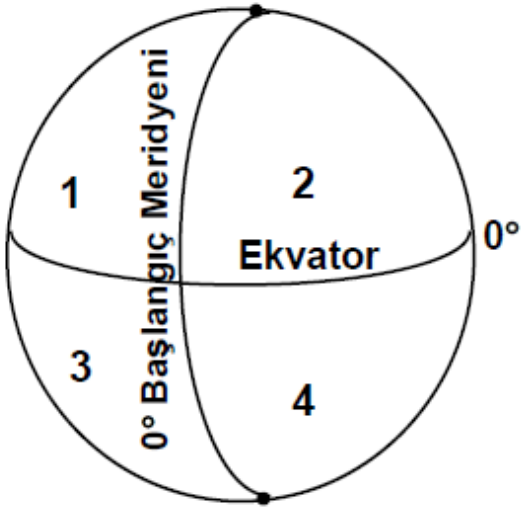
- A) Türklerin sanat ve ticareti öğrenmesi
- B) Anadolu'da Türk nüfusunun artması
- C) Türklerin savaş sanatını geliştirmesi
- D) Türklerin Avrupa'ya geçmesi

4. Destanlarda Orta Asya'da kurulan ilk Türk devletlerinin coğrafi, siyasal, ekonomik ve kültürel özelliklerine ilişkin önemli çıkarımlarda bulunulabilmektedir.

İlk Türk devletlerinin destanları hangi seçenekte doğru eşleştirilmiştir?

	<u>ASYA HUN</u>	<u>KÖK TÜRK</u>	<u>UYGUR</u>
A)	Ergenekon	Göç	Oğuz Kağan
B)	Ergenekon	Oğuz Kağan	Göç
C)	Oğuz Kağan	Göç	Ergenekon
D)	Oğuz Kağan	Ergenekon	Göç

5.



Özdamarlar

Yukarıda verilen noktalar için hangisi yanlıştır?

- A) "1" nolu nokta Kuzey Yarımkürededir.
- B) "2" nolu nokta Başlangıç Meridyenin batısındadır.
- C) "3" nolu nokta Güney Yarımkürededir.
- D) "4" nolu nokta Başlangıç Paralelinin güneyindedir.

6.

Ülke sınırlarımızın dışından gelip ülkemizden denize dökülen akarsular	Meriç, Asi, Sakarya
Ülkemizden doğup başka ülkelerden denize dökülen akarsular	Fırat, Dicle, Aras, Kura, Çoruh
Ülkemiz sınırları içinde doğup yine ülkemizden denize dökülen akarsular	Kızılırmak, Yeşilırmak, Seyhan, Ceyhan, Göksu, Gediz

Tabloda hangi akarsu yanlış yere yazılmıştır?

A) Fırat	B) Kızılırmak
C) Sakarya	D) Çoruh

7.



Rüzgârlar geldikleri yerin sıcaklığını estikleri yere taşırlar. Sıcak yerlerden eseren rüzgârlar sıcaklığı artırırken soğuk yerlerden gelenler de sıcaklığı azaltır.

Buna göre yukarıda verilen rüzgârlardan hangisi sıcaklığı düşürür?

- A) I B) II C) III D) IV

8.

23 Nisan 1920	Ulusal Egemenlik ve Çocuk Bayramı
19 Mayıs 1919	Atatürk'ü Anma, Gençlik ve Spor Bayramı
15 Temmuz	Demokrasi ve Millî Birlik Günü
30 Ağustos 1922	Zafer Bayramı
29 Ekim 1923	Cumhuriyet Bayramı

Verilen tabloda yer alanlar toplumsal birlikteliği oluşturan hangi unsurla ilişkilendirilebilir?

A)Dil	B)Din
C)Sanat	D)Tarih

9.

Mehmetçik Vakfı	Şehit olan veya herhangi bir nedenle hayatını kaybedenlerin ailelerini ve Mehmetçiklerin bakmakla yükümlü oldukları yakınları ile gazi ve şehit yakınlarına yardım yapmak, Mehmetçiklere yardımcı olmak
Türk Kızılayı	Doğal afetlerde ve olağan dönemlerde ihtiyaç sahipleri ve korunmasızlara yönelik yardım sağlamak, kan ihtiyacını giderme

Yukarıdaki sivil toplum kuruluşlarının faaliyetleri hangisi ile ilişkilendirilemez?

- A) Yardımlaşma
- B) Kâr elde etme
- C) Sosyal sorumluluk alma
- D) Dayanışma

10. Anadolu'nun Türkleşme sürecini XI ve XIII.yüzyıllar kapsamında analiz eden birisi aşağıdaki bilgilerden hangisine ulaşamaz?

- A) Askeri zaferlerle Türk varlığı güçlendirilmiştir.
- B) Şehirlere, köylere, dağlara, göllere, ovalara, ırmaklara Türkçe isim verilmiştir.
- C) Anadolu'da yaşayan Ermeni, Gürcü ve Rum halka baskı yapılmıştır.
- D) Anadolu'ya pek çok cami, medrese, külliye, han, hamam, köprü, kervansaray inşa edilmiştir.

31 OCAK 2025 CUMA	DIET DENEMESİ 10	D: Y:
------------------------------	-----------------------------	------------------

1.

Ali: İnsanları toplu taşımaya yöneltmek için bir kampanya başlattık.

Mehmet: Van'da meydana gelen depremde evsiz kalanlara çadır ve oyuncak yardımında bulunduk.

Merve: Çevre kirliliğini konusunda bilinç oluşturmak için bir Genel Ağ sitesi tasarladık.

Aslı: Kitap okumanın önemi için bir sivil toplum kuruluşu oluşturduk.

Hangi öğrencinin örnek verdiği olayın toplumsal birlikteliğın oluşmasına daha çok katkı sağlayacağı söylenebilir?

- A) Aslı'nın B) Merve'nin
C) Mehmet'in D) Ali'nin

2.



Türk Deniz Kuvvetleri'nin brövesinde Çaka Bey'in beyliğini kurduğu 1081 tarihi yer almaktadır. Buna göre hangisi söylenebilir?

- A) Türk denizciliğinin Çaka Bey ile başladığı
B) Çaka Bey'in beyliğinin kısa sürdüğü
C) Çaka Bey'in Selçukluya bağlı hareket ettiği
D) Çaka Bey öncesinde de denizcilik faaliyetlerin yürütüldüğü

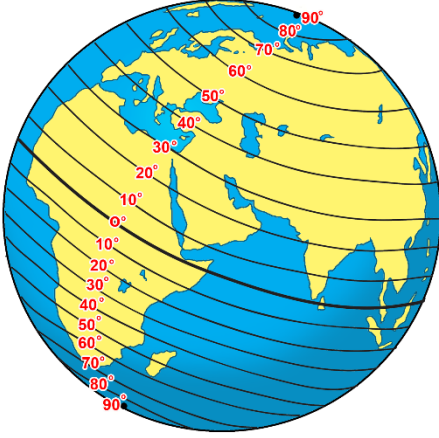
3.

- I. Herkes düşüncelerini sözle, yazıyla, şarkıyla ifade edebilir.
II. Başkalarının düşüncelerine saygı duymak esastır.
III. Düşünce özgürlüğüne aykırı durumlarda herkes mahkemeye başvurabilir.

Yukarıda verilen ifadelerin hak, özgürlük, sorumluluk olarak sıralaması hangi seçenekte doğru verilmiştir?

- A) Özgürlük-Hak-Sorumluluk
B) Özgürlük-Sorumluluk-Hak
C) Hak-Sorumluluk-Özgürlük
D) Hak-Özgürlük-Sorumluluk

4.



Görselde görüldüğü gibi paralellerin boyları kutuplara doğru gidildikçe kısalmaktadır.

Bu durumun temel nedeni aşağıdakilerden hangisidir?

- A) Kıtaların ve okyanusların dağılışı
- B) İklim kuşakları
- C) Dünyanın şekli
- D) Güneş ışınlarının geliş açısı

5. Bu belge, haksız bir fiil ya da suç işleyen kişinin cezalandırılmasına engel değildir. Cihad amacıyla evinden çıkan kişi de şehirde kalan kişi de emniyettedir. Ancak haksız bir fiil ya da suç işlenmesi durumu bu korumanın dışındadır. Allah ve Rasûlü, bu maddelere tam bir sadakat ve titizlikle uyan kimselerin yardımcısıdır.

Mekkeli Müslümanlar ile Medine’de yaşayan putperest ve Yahudiler arasında yapılan Medine Sözleşmesi’nin yukarıdaki maddesinden hangisine ulaşamaz?

- A) Hz. Peygamber’in insan haklarına değer verdiğine
- B) Hz. Peygamber’in hukuka önem verdiğine
- C) Hz. Peygamber’in toplumsal barışı güvence altına aldığına
- D) Hz. Peygamber’in İslamiyet’in Arabistan yarımadası dışında yaydığına

6.



Her üçü de Karadeniz kıyısında yer alan şehirlerin yıllık yağış miktarları şöyledir;

Samsun	716 mm.
Zonguldak	1218 mm.
Rize	2298 mm.

Bu durumun temel nedeni aşağıdakilerden hangisidir?

- A)Rüzgarlar
C)Yer şekilleri

- B)Bulunan enlem
D)Bitki örtüsü

7.



Anadolu'da kurulan ilk Türk Devletleri döneminden kalan yukarıdaki eserler yapan devletler hangi hangi seçenekte doğru eşleştirilmiştir?

	<u>MALABADİ KÖPRÜSÜ</u>	<u>YAĞIBASAN MEDRESESİ</u>	<u>NIKSAR ULU CAMİİ</u>
A)	Saltuklular	Danışmendliler	Mengücekliler
B)	Danışmendliler	Artuklular	Mengücekliler
C)	Saltuklular	Artuklular	Danışmendliler
D)	Artuklular	Danışmedliler	Danışmendliler

8. Kuzey kutup bölgesine yakın bir konumda yer alan Norveç'te evlerin üçgen çatılı olmasının temel nedeni aşağıdakilerden hangisidir?

- A) Güneşten faydalanmak
- B) Evin kullanım alanını artırmak
- C) Doğayı korumak
- D) Çatıda karın birikmesini engellemek

9.



Ben Kaşgarlı Mahmut Bu eserimi Araplara Türkçe öğretmek ve Türkçe'nin Arapça'dan zengin bir dil olduğunu göstermek için yazdım. Eserimde Bizans sınırından Çin sınırına kadar çeşitli Türk topluluklarının lehçelerinden örnekler sundum. Eserim aslında Arapça yazılmış Türkçe bir sözlüktür. İçinde 7.500 kelime bulunur. Bu kelimelerin nerelerde ve hangi anlamlarda kullanıldığını gösterdim. Eserimde Türklerin yaşadığı yerlerin coğrafi, ekonomik, siyasi ve sosyal hayatı hakkında da bilgi verdim. Ayrıca eserimde bir Türk Dünyası Haritası da bulunmaktadır.

Yukarıda bilgi verilen eser hangisidir?

- A) Atabatü'l Hakayık
C) Divân-ı Hikmet

- B) Kutadgu Bilig
D) Dîvânü Lugâtit-Türk

10.

İSLAMİYET'TEN ÖNCE	İSLAMİYETLE BİRLİKTE
Kök Türk ve Uygur alfabeleri kullanılıyordu.	Arap alfabesi kullanılmaya başlandı.
Devlet işleri kurultayda görüşülüyordu.	Devlet işleri divan adı verilen mecliste görüşülmeye başlandı.
Hükümdarlar han, hakan, kağan gibi unvanlar taşıyordu.	Hükümdarlar İslami isim ve unvanlar kullanmaya başladı.
Sözlü edebiyat yaygındı.	Türk-İslam edebiyatı oluştu.

Tabloda Türklerin İslamiyet'i kabulü ile birlikte;

- I. Siyasi
II. Kültürel
III. Ekonomik

alanlarının hangilerinde meydana gelen değişimlere örnekler verilmiştir?

- A) Yalnız I.
C) I ve II.

- B) II ve III.
D) I ve III.